

找到考证网

< 一站式报名学习考试服务平台 >



咨询



报名



关注我们

1. 照明线路熔断器的熔体的额定电  
流取线路计算电流的 ( )

A0.9

B1.1

C1.5

找到考证网

<一站式报名学习考试服务平台>



咨询



报名



关注我们

2:对电机各绕组的绝缘检查,如测出绝缘电阻为零,在发现无明显烧毁的现象时,则可进行烘干处理,这( ) 通电运行。

A. 允许

B. 不允许

C. 烘干后就可

绝缘击穿或  
短路

找到考证网

< 一站式报名学习考试服务平台 >



咨询



报名



关注我们

3 用摇表测量电阻的单位是（ ）。

A. 千欧

B. 欧姆

C. 兆欧

摇表又叫兆欧表

找到考证网

< 一站式报名学习考试服务平台 >



咨询



报名



关注我们

4. 绝缘材料的耐热等级为E级时，其极限工作温度为( )°C。

A. 105

B. 90

C. 120

极限最大超重

选最大(口诀)

找到考证网

< 一站式报名学习考试服务平台 >



咨询



报名



关注我们

5 在对可能存在较高跨步电压的接地故障点进行检查时，室内不得接近故障点( )m以内。

A.3 → 照明

B.2倍 → 开关

C.4 ✓ 安全

找到考证网

< 一站式报名学习考试服务平台 >



咨询



报名



关注我们

6 根据线路电压等级和用户对象，  
电力线路可分为配电线路和（ ）  
线路。

A. 照明

B. 动力

C. 送电

电对电

找到考证网

< 一站式报名学习考试服务平台 >



咨询



报名



关注我们

7 接地线应用多股软裸铜线，其截面积不得小于（） $\text{m m}^2$ 。

A.10

B.6

C.25

✓ 王牌方法

找到考证网

< 一站式报名学习考试服务平台 >



咨询



报名



关注我们

8 电气火灾发生时，应先切断电源再扑救，但不知或不清楚开关在何处时，应剪断电线，剪切时要（ ）。

A. 几根线迅速同时剪断

B. 不同相线在不同位置剪断

C. 在同一位置一根一根剪断



找到考证网

< 一站式报名学习考试服务平台 >



咨询



报名



关注我们

9 利用交流接触器做欠压保护的原理是当电压不足时，线圈产生的（ ）不足，触头分断。

A. 磁力

B. 涡流

C. 热量

找到考证网

< 一站式报名学习考试服务平台 >



咨询



报名



关注我们

10 螺丝刀的规格是以丙部外面的杆长度和（ ）表示。

A. 厚度

B. 半径

C. ~~直径~~

找到考证网

< 一站式报名学习考试服务平台 >



咨询



报名



关注我们

11 高压验电器的发光电压不应高于额定电压的（ ）%。

A. 25 ✓

B. 50

C. 75

王牌方法：  
25. 线电压. 白炽灯. 正比

找到考证网

< 一站式报名学习考试服务平台 >



咨询



报名



关注我们

**12** 钳形电流表使用时应先用较大量程，然后再视被测电流的大小变换量程。切换量程时应（ ）。

**A.** 直接转动量程开关

~~**B.** 先退出导线，再转动量程开关~~

**C.** 一边进线一边换挡

找到考证网

< 一站式报名学习考试服务平台 >



咨询



报名



关注我们

13 更换熔体或熔管，必须在（ ）的情况下进行。

A. ~~带电~~

B.  不带电

C. ~~带负载~~

找到考证网

< 一站式报名学习考试服务平台 >



咨询



报名



关注我们

14 特种作业操作证有效期为（ ）年。

A.8

B.12

C.6

3年复审

找到考证网

< 一站式报名学习考试服务平台 >



咨询



报名



关注我们

15 电容器属于（ ）设备。

A. 运动

B. 危险

C. 静止

找到考证网

< 一站式报名学习考试服务平台 >



咨询



报名



关注我们

16 下列现象中，可判定是接触不良的是（ ）。

A. 日光灯启动困难

~~B. 灯泡忽明忽暗~~

C. 灯泡不亮



找到考证网

< 一站式报名学习考试服务平台 >



咨询



报名



关注我们

17 指针式万用表一般可以测量交直流电压、( ) 电流和电阻。

A. ~~交流~~

B. ~~交直流~~

C. ~~直流~~

内部是磁电式仪表  
只能测直流

找到考证网

< 一站式报名学习考试服务平台 >



咨询



报名



关注我们

18 选择电压表时，其内阻（ ）被测负载的电阻为好。

A. 远小于

B. 远大于

C. 等于

压大流小

找到考证网

< 一站式报名学习考试服务平台 >



咨询



报名



关注我们

19 人体直接接触带电设备或线路中的一相，电流通过人体流入大地，这种接触电现象称为（ ）触电。

A. 单相

B. 两相

C. 三相

找到考证网

< 一站式报名学习考试服务平台 >



咨询



报名



关注我们

20 在半导体电路中，主要选用快速熔断器做（ ）保护。

A. 短路

B. 过压

C. 过热

熔断器只有看见

一般才会选过载

而短路其它全部

选短路

找到考证网

< 一站式报名学习考试服务平台 >



咨询



报名



关注我们

21 安培定则也叫 ( ) 。

- A. 右手定则
- B. 左手定则
- C. 右手螺旋法则

找到考证网

< 一站式报名学习考试服务平台 >



咨询



报名



关注我们

22 确定正弦量的三要素为 ( )。

A. 相位、初相位、相位差

B. 最大值、频率、初相角

C. 周期、频率、角频率

初相

找到考证网

< 一站式报名学习考试服务平台 >



咨询



报名



关注我们

23 主令电器很多，其中有（ ）。

A. 接触器 ~~✗~~ — 控制

B. 行程开关 ✓

C. 热继电器 ~~✗~~ — 配电

找到考证网

<一站式报名学习考试服务平台>



咨询



报名



关注我们

24 低压熔断器，广泛应用于低压供配电系统和控制系统中，主要用于（ ）保护，有时也可以用于过载保护。

A. 速断

B. 短路

C. 过流



找到考证网

< 一站式报名学习考试服务平台 >



咨询



报名



关注我们

25 测量接地电阻时，电位探针应接在距接地端（ ）m的地方。

A.5

B.20 ✓

C.40

找到考证网

< 一站式报名学习考试服务平台 >



咨询



报名



关注我们

26 ( ) 仪表由固定的线圈，可转动的铁心及转轴、游丝、指针、机械调零机构等组成。

A. 磁电式 → 有磁铁

✓ B. 电磁式 → 铁芯

C. ~~感应式~~ 电动式 → 两个口

找到考证网

< 一站式报名学习考试服务平台 >



咨询



报名



关注我们

27 电流对人体的热效应造成的伤害是（ ）。

A. 电烧伤

B. 电烙印

C. 皮肤金属化

找到考证网

< 一站式报名学习考试服务平台 >



咨询



报名



关注我们

28 低压电器按其动作方式又可分为自动切换电器和（ ）电器。

A. 非自动切换

B. 非电动

C. 非机械

找到考证网

< 一站式报名学习考试服务平台 >



咨询



报名



关注我们

29 保险绳的使用应 ( ) 。

~~A. 高挂低用~~

B. 低挂调用

C. 保证安全

题目中间的是怎么  
使用

找到考证网

< 一站式报名学习考试服务平台 >



咨询



报名



关注我们

**30** 降压启动是指启动时降低加在电动机（ ）绕组上的电压，启动运转后，再使其电压恢复到额定电压正常运行。

A.  定子

B. 转子

C. 定子及转子

定子通电转子不通电

找到考证网

< 一站式报名学习考试服务平台 >



咨询



报名



关注我们

31 线路或设备的绝缘电阻的测量是用（ ）测量。

- A. 万用表的电阻档 → 检测电容器
- B. 兆欧表 ✓
- C. 接地摇表 → 接地电阻

找到考证网

< 一站式报名学习考试服务平台 >



咨询



报名



关注我们

32 从制造角度考虑，低压电器是指在交流50Hz、额定电压（ ）v或直流额定电压1500v及以下电器设备。

A. 800

B. 400

C. 1000

电器设备: 1000V以下低压

对地电压: 250V以下低压



找到考证网

< 一站式报名学习考试服务平台 >



咨询



报名



关注我们

33 熔断器的保护特性又称为（ ）。

A. 灭弧特性 ~~装置~~

B. 安秒特性

C. 时间性

找到考证网

< 一站式报名学习考试服务平台 >



咨询



报名



关注我们

**34** 交流接触器的额定工作电压，是指在规定的条件下，能保证电器正常工作的（ ）电压。

A. 最低

B. 最高

C. 平均

工作电压小于等于额定电压

找到考证网

< 一站式报名学习考试服务平台 >



咨询



报名



关注我们

35 在电气线路安装时，导线与导线或导线与电器螺旋栓之间的连接最易引发火灾的连接工艺是（ ）。

A. 铜线与铝线绞接

B. 铝线与铝线绞接

C. 铜线过渡接头压接

铜、铝绞接容易  
氧化引发火灾

找到考证网

< 一站式报名学习考试服务平台 >



咨询



报名



关注我们

36 螺旋式熔断器的电源进线应接在  
( )。

A. 上端 → 胶卡式刀开关接上端

B. 下端 ✓

C. 前端

找到考证网

< 一站式报名学习考试服务平台 >



咨询



报名



关注我们

37 在电路中，开关应控制（ ）。

A. 零线

B. ~~相线~~

C. 地线

找到考证网

< 一站式报名学习考试服务平台 >



咨询



报名



关注我们

38 一般照明场所的线路允许电压损失为定额电压的（ ）。

A.  $\pm 5\%$

B.  $\pm 10\%$

C.  $\pm 15\%$

损失越小越好

找到考证网

< 一站式报名学习考试服务平台 >



咨询



报名



关注我们

39 据一些资料标明，心跳呼吸停止，在（ ）min内进行抢救，约80%可以救活。

A.1

1分钟活8分钟吃席

B.2

C.3

找到考证网

< 一站式报名学习考试服务平台 >



咨询



报名



关注我们

40 漏电保护断路器在设备正常工作  
时，电路电流的相量和（ ），开关  
保持闭合状态。

A. 为负

B. 为正

C. 为零



找到考证网

< 一站式报名学习考试服务平台 >



咨询



报名



关注我们

**41** 笼形异步电动机采用电阻降压启动时，启动次数（ ）。

**A.** 不允许超过**3**次/小时

**B.** 不宜太少

**C.** 不宜过于频繁

找到考证网

< 一站式报名学习考试服务平台 >



咨询



报名



关注我们

42在一般场所，为保证使用安全，  
应选用（ ）电动工具。

A. I类

✓ B. II类 具有双重绝缘，比I类安全

C. III类 用于狭窄空间，电压不大于50V

找到考证网

< 一站式报名学习考试服务平台 >



咨询



报名



关注我们

43 暗装的开关及插座应有（ ）。

A. 明显标志

B. 盖板

C. 警示标志

两个标志排除

找到考证网

< 一站式报名学习考试服务平台 >



咨询



报名



关注我们

44 万用表电压量程2.5v是指指针在  
( ) 位置时电压值为2.5v。

A. ~~1/2~~量程

B. 满量程

C. ~~2/3~~量程

两个数字排除

找到考证网

< 一站式报名学习考试服务平台 >



咨询



报名



关注我们

45 三相笼形异步电动机的启动方式有两类，既在额定电压下的直接启动和（ ）启动。

A. ~~转子串频敏~~

B. ~~转子串电阻~~

C. 降低启动电压

两个转子排除  
选电压

找到考证网

< 一站式报名学习考试服务平台 >



咨询



报名



关注我们

46 在电力控制系统中，使用最广泛的是（ ）式交流接触器。

A. 气动

B. 电磁

C. 液动

找到考证网

<一站式报名学习考试服务平台>



咨询



报名



关注我们

47 断路器是通过手动或电动等操作机构式断路器合闸，通过（ ）装置使断路器自动跳闸，达到故障保护目的。

A. 活动

B. 自动

C. ~~脱扣~~

找到考证网

< 一站式报名学习考试服务平台 >



咨询



报名



关注我们

48 电容器在万用表检查时指针摆动后应该（ ）。

A. 保持不动

B. 逐渐回摆

C. 来回摆动

逐渐回摆到0才  
正常



找到考证网

<一站式报名学习考试服务平台>



咨询

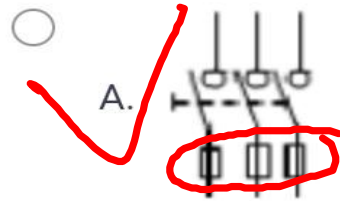


报名

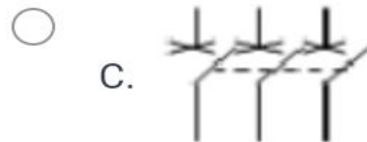
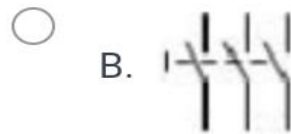


关注我们

49 铁壳开关的电气图形为(), 文字符号为QS。 <



三个铁壳壳



找到考证网

< 一站式报名学习考试服务平台 >



咨询



报名



关注我们

50 钳形电**流**表由电流互感器和带  
( ) 的磁电式表头组成。

A. 测量电路

B. 整**流**装置

流对流

C. 指针

找到考证网

< 一站式报名学习考试服务平台 >



咨询



报名



关注我们

**51** 下列材料不能作为导线使用的是（ ）。

A. 铜绞线

~~B. 钢绞线~~

C. 铝绞线

找到考证网

< 一站式报名学习考试服务平台 >



咨询



报名



关注我们

52 电感式日光灯镇流器的内部是  
( )。

A. 电子电路 ~~X~~

B. 线圈

C. 振荡电路 ~~X~~

两个电路排除  
选线圈

找到考证网

< 一站式报名学习考试服务平台 >



咨询



报名



关注我们

**53** 静电防护的措施比较多，下面常用又行之有效的可消除设备外壳静电的方法是（ ）。

**A. 接地**

**B. 接零**

**C. 串接**

找到考证网

< 一站式报名学习考试服务平台 >



咨询



报名



关注我们

54 在易燃、易爆危险场所，电气设备应安装（ ）的电气设备。

A. 密封性好

B. 安全电压

C. 防爆型

找到考证网

< 一站式报名学习考试服务平台 >



咨询



报名



关注我们

55 行程开关的组成包括有（ ）。

A. 保护部分

B. 线圈部分

C. 反力系统

两个部分排除  
选系统

找到考证网

< 一站式报名学习考试服务平台 >



咨询



报名



关注我们

56 三相异步电动机虽然种类繁多，  
但基本结构均由（ ）和转子两大部分组成。

A. 外壳

B. 定子

C. 罩壳及机座

定子、转子不分家



找到考证网

< 一站式报名学习考试服务平台 >



咨询



报名



关注我们

57 接地电阻测量仪主要由手摇发电机、（ ）、电位器，以及检流计组成。

A. 电流互感器

流对流

B. 电压互感器

C. 变压器

找到考证网

< 一站式报名学习考试服务平台 >



咨询



报名



关注我们

58 具有反时限安秒特性的元件就具备短路保护和（ ）保护能力。

A. 机械

B. 温度

C. 过载

找到考证网

< 一站式报名学习考试服务平台 >



咨询



报名



关注我们

59 纯电容元件在电路中 ( ) 电能。

A. 储存

B. 分配

C. 消耗

找到考证网

< 一站式报名学习考试服务平台 >



咨询



报名



关注我们

60 导线接头要求应接触紧密和 ( ) 等。

A. 拉不断

B. 牢固可靠

C. 不会发热

接触不紧密会发热

找到考证网

< 一站式报名学习考试服务平台 >



咨询



报名



关注我们

61 ( ) 仪表可直接用于交、直流  
测量，但精确度低。

A. 磁电式 → 只能测直流

B. ~~电磁式~~ 磁低动高

C. 电动式

找到考证网

< 一站式报名学习考试服务平台 >



咨询



报名



关注我们

62 人体体内电阻约为 ( )  $\Omega$ 。

A. 300

B. 200

C. 500

室颤电流 50

找到考证网

< 一站式报名学习考试服务平台 >



咨询



报名



关注我们

63 尖嘴钳150mm是指（ ）。

A. 其绝缘手柄为150mm

B. 其总长度为150mm

C. 其开口150mm

找到考证网

< 一站式报名学习考试服务平台 >



咨询



报名



关注我们

64 ( ) 仪表由固定的永久(磁铁)可转动的线圈及转轴、游丝、指针、机械调零机构等组成。

✓ A. 磁电式 → 有磁铁

B. 电磁式 → 铁芯

C. 感应式 ~~感应式~~ 电动式 → 两个0



找到考证网

<一站式报名学习考试服务平台>



咨询



报名



关注我们

65 运输液化气，石油等的槽车在行驶时，在槽车底部应采用金属链条或导电橡胶使之与大地接触，其目的是（ ）。

A. 中和槽车行驶中产生的静电荷

~~B. <sup>放电</sup>泄漏槽车行驶中产生的静电荷~~

C. 使槽车与大地等电位

找到考证网

< 一站式报名学习考试服务平台 >



咨询



报名



关注我们

66 人的室颤电流约为 ( ) mA。

A.30

B.16

C.50

电阻500  
电流50

找到考证网

< 一站式报名学习考试服务平台 >



咨询



报名



关注我们

67 下图的电工元件符号中属于电容器的电工符号是  
()。

A.




△ = 极管

B.



□ = 电阻

C.



找到考证网

< 一站式报名学习考试服务平台 >



咨询



报名



关注我们

68 通电线圈产生的磁场方向不但与电流方向有关，而且还与线圈（ ）有关。

A. 长度

B. 绕向

C. 体积

口诀：——又对应  
前后对应

找到考证网

< 一站式报名学习考试服务平台 >



咨询



报名



关注我们

69 一般线路中的熔断器有 ( ) 保护。

A. 短路

B. 过载

C. ~~过载~~和短路

熔断器看见一般 (口诀)  
选过载和短路

找到考证网

< 一站式报名学习考试服务平台 >



咨询



报名



关注我们

70 使用剥线钳时应选用比导线直径  
( ) 的刃口。

A. 相同

B. ~~稍大~~

C. 较大

找到考证网

< 一站式报名学习考试服务平台 >



咨询



报名



关注我们

**71** 对电机内部的脏物及灰尘清理，应用（ ）。

**A.** 布上沾汽油，煤油等抹擦

**B.** 湿布抹擦

**C.** 用压缩空气吹或用干布抹擦

找到考证网

< 一站式报名学习考试服务平台 >



咨询



报名



关注我们

72 每一照明（包括风扇）支路总容量一般不大于（ ）kw。

A.2

B.3

C.4



找到考证网

< 一站式报名学习考试服务平台 >



咨询



报名



关注我们

73 对电机轴承润滑的**检查**，（ ）  
电动机转轴，看是否转动灵活，听  
有无异声。

A. 通电转动

B. **用手转动**

C. 用其他设备带动

找到考证网

< 一站式报名学习考试服务平台 >



咨询



报名



关注我们

74 对电机各绕组的绝缘检查，要求是：电动机每1kv工作电压，绝缘电阻（ ）。

A. 小于~~0.5MΩ~~ 受潮

B. 大于等于~~1MΩ~~ 两个05排除

C. 等于~~0.5MΩ~~

找到考证网

< 一站式报名学习考试服务平台 >



咨询



报名



关注我们

75 在铝绞线中加入钢芯的作用是  
( )。

A. 增大导线面积

B. 提高导电能力

C. 提高机械强度

铝软  
钢硬

找到考证网

< 一站式报名学习考试服务平台 >



咨询



报名



关注我们

76对颜色有较高区别要求的场所，  
宜采用（ ）。

A. 彩灯

B. 白炽灯

C. 紫色灯

招牌方法

找到考证网

< 一站式报名学习考试服务平台 >



咨询



报名



关注我们

77 “禁止攀登，**高压**危险！”的标志牌应制作为（ ）。

- A. 红底白字
- B. 白底红字
- C. 白底红边黑字

高压黑字  
低压红字

找到考证网

< 一站式报名学习考试服务平台 >



咨询

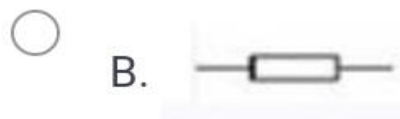


报名



关注我们

78 熔断器的符号是()。



□ 电阻

△ = 二极管

找到考证网

< 一站式报名学习考试服务平台 >



咨询



报名



关注我们

79 在检查插座时，电笔在插座的两个孔均不亮，首先判断是（ ）。

A. 短路

B. ~~相线断线~~

C. 零线断线

找到考证网

< 一站式报名学习考试服务平台 >



咨询



报名



关注我们

80 三相对称负载接成星形时，三相总电流（ ）。

A. 等于零

B. 等于其中一相电流的三倍

C. 等于其中一相电流

相电流 = 线电流



找到考证网

< 一站式报名学习考试服务平台 >



咨询



报名



关注我们

81 一般照明线路中，无电的依据是  
( )。

A. 用摇表测量

B. 用电笔测量

C. 用电流表测量

找到考证网

< 一站式报名学习考试服务平台 >



咨询



报名



关注我们

82 我们平时称的瓷瓶，在电工专业中称为（ ）。

A. 隔离体

B. ~~绝缘瓶~~

C. ~~绝缘子~~

找到考证网

< 一站式报名学习考试服务平台 >



咨询



报名



关注我们

83 对照电机与其铭牌检查，主要有  
( )、频率、定子绕组的连接方法。

A. 电源电压

220V

B. 电源电流

C. 工作制

找到考证网

< 一站式报名学习考试服务平台 >



咨询



报名



关注我们

84 锡焊晶体管等弱电元件应用 ( )  
w的电烙铁为宜。

A. 25 ✓

王牌方法

B. 75

C. 100

找到考证网

< 一站式报名学习考试服务平台 >



咨询



报名



关注我们

85 导线接头的机械强度不小于原导线机械强度的（ ）%。

A. 80

B. 90

C. 95

规格. 绝缘  
要相同

找到考证网

< 一站式报名学习考试服务平台 >



咨询



报名



关注我们

86 用万用表测量电阻时，黑表笔接表内电源的（ ）。

A. 负极

B. 两极

C. 正极

红进黑出. 所以  
内电源为正

找到考证网

< 一站式报名学习考试服务平台 >



咨询



报名



关注我们

87 串联电路中各电阻两端电压的关系是（ ）。

A. 阻值越小两端电压越高

B. 各电阻两端电压相等

C. 阻值越大两端电压越高

$$I = \frac{U}{R}$$

找到考证网

< 一站式报名学习考试服务平台 >



咨询



报名



关注我们

88 用于电气作业书面依据的工作票应一式（ ）份。

A. 2

B. 3

C. 4



找到考证网

< 一站式报名学习考试服务平台 >



咨询



报名



关注我们

89 引起电光性眼炎的主要原因是  
( )。

A. 可见光

B. 红外线

C. 紫外线

找到考证网

< 一站式报名学习考试服务平台 >



咨询



报名



关注我们

90 将一根导线均匀拉长为原长的2倍，则它的阻值为原阻值的（ ）倍。

A.2

B.1

C.4

$$2 \times 2 = 4$$

找到考证网

< 一站式报名学习考试服务平台 >



咨询



报名



关注我们

91 钳形**电流**表是利用 ( ) 的原理制造的。

A. **电流互感器**

B. 电压互感器

C. 变压器

找到考证网

< 一站式报名学习考试服务平台 >



咨询



报名



关注我们

92 电压继电器使用时其吸引线圈直接或通过电压互感器（ ）在被控电路中。

A. 并联

B. 串联

C. 串联或并联

找到考证网

<一站式报名学习考试服务平台>



咨询



报名



关注我们

**93** 在一个闭合回路中，电流强度与电源电动势成正比，与电路中内电阻和外电阻之和成反比，这一定律称（ ）。

**A.** 全电路欧姆定律

**B.** 全电路电流定律

**C.** 部分电路欧姆定律

找到考证网

< 一站式报名学习考试服务平台 >



咨询



报名



关注我们

94 万用表由表头、（ ）及转换开关三个主要部分组成。

A. 测量电路

B. 线圈

→ 日光灯内部

C. 指针

→ 表头里面有

找到考证网

< 一站式报名学习考试服务平台 >



咨询



报名



关注我们

95 登杆前，应对脚扣进行（ ）。

A. 人体静载荷实验

B. 人体载荷冲击实验

C. 人体载荷拉伸实验

从高往下坠落  
是冲击

找到考证网

< 一站式报名学习考试服务平台 >



咨询



报名



关注我们

96 使用竹竿时，梯子与地面的夹角以（ ）° 为宜

A.50

B.60 ✓

C.70



找到考证网

< 一站式报名学习考试服务平台 >



咨询



报名



关注我们

97 PN节两端加正向电压时，其正向电阻（ ）。

A. 小 ✓ PN节记相反

B. 大

C. 不变

找到考证网

< 一站式报名学习考试服务平台 >



咨询



报名



关注我们

98 低压电容器的放电负载通常使用  
( )。

A. 灯泡

B. 线圈

C. 互感器

找到考证网

< 一站式报名学习考试服务平台 >



咨询



报名



关注我们

99 万能转换开关的基本结构内有  
( )

A. 反力系统 → 行程开关

B. 触点系统

C. 线圈部分

找到考证网

< 一站式报名学习考试服务平台 >



咨询



报名



关注我们

100 下列（ ）是保证电气作业安全的组织措施。

~~A. 工作许可制度~~

动口

B. 停电

C. 悬挂接地线

找到考证网

< 一站式报名学习考试服务平台 >



咨询



报名



关注我们

101碘钨灯属于（ ）光源。

A电弧

B气体放电

C热辐射

碘钨灯、白炽灯都是灯丝发热

找到考证网

< 一站式报名学习考试服务平台 >



咨询



报名



关注我们

102导线接头电阻要(足够小) 与同长度同截面导线的电阻比不大于 ( )

A1 ✓

B1.5

C2

安全经济原则.

大于浪费

找到考证网

< 一站式报名学习考试服务平台 >



咨询



报名



关注我们

**103**摇表的两个主要组成部分是手摇  
( ) 和电磁式流比计。

**A** 电流互感器

~~**B**~~ 直流发电机

**C** 交流发电机

找到考证网

< 一站式报名学习考试服务平台 >



咨询



报名



关注我们

104装设接地线，当检验明确无电压后，应立即将检修设备接地并( )短路。

A两相

B单相

C三相

检验检修从大到小



找到考证网

< 一站式报名学习考试服务平台 >



咨询



报名



关注我们

105单相电度表主要由一个可转动铝盘和分别绕在不同铁芯上的一个（ ）和一个电流线圈组成。

A电压线圈

B电压互感器

C电阻

线圈对线圈

口诀：前后对应

找到考证网

< 一站式报名学习考试服务平台 >



咨询



报名



关注我们

106 电磁力的大小与导体的有效长度  
( )。

A 正比 ✓

B 反比

C 不变

选择题全部选  
正比 (口诀)

找到考证网

< 一站式报名学习考试服务平台 >



咨询



报名



关注我们

107 ( ) 是保证电气作业安全的**技**术措施之一。

A 工作票制度

**B 验电**

C 工作许可证

技术是动手

找到考证网

< 一站式报名学习考试服务平台 >



咨询



报名



关注我们

108在均匀磁场中，通过某一平面的磁通量为最大时，这个平面就和磁力线( )。

A平行 为0

B垂直 ✓ 口诀：垂直磁通量最大

C斜交

找到考证网

< 一站式报名学习考试服务平台 >



咨询



报名



关注我们

109熔断器在电动机的电路中起（ ）保护作用。

A 过载

B 短路

C 过载和短路

没有一般选短路

口诀

找到考证网

< 一站式报名学习考试服务平台 >



咨询



报名



关注我们

- 110 变压器和高压开关柜，防止雷电侵入产生破坏的主要措施是（ ）。

- A. 安装避雷器 *设备内部用避雷器*
- B. 安装避雷线
- C. 安装避雷网

找到考证网

< 一站式报名学习考试服务平台 >



咨询



报名



关注我们

- **111** 三相交流电路中，**A**相用（ ）颜色标记。

- **A. 红色**

- **B. 黄色**

- **C. 绿色**

黄飞鸿 (口诀)  
A C

找到考证网

< 一站式报名学习考试服务平台 >



咨询



报名



关注我们

- 112 导线接头连接不紧密，会造成接头（ ）。
- ~~A. 发热~~
- B. 绝缘不够
- C. 不导电



找到考证网

< 一站式报名学习考试服务平台 >



咨询



报名



关注我们

• 113 **特别**潮湿的场所应采用 ( )  
V的安全特低电压。

• A.24 → 潮湿 (口诀)

• B.42

• ~~C.12~~

找到考证网

< 一站式报名学习考试服务平台 >



咨询



报名



关注我们

- **114** 指针式万用表测量电阻时标度尺最右侧是（ ）。
- **A.**  $\infty$
- **B.** 0 ✓
- **C.** 不确定

找到考证网

< 一站式报名学习考试服务平台 >



咨询



报名



关注我们

- 115 如果触电者心跳停止，有呼吸，应立即对触电者施行（ ）急救。
- A. 仰卧压胸法
- B. 胸外心脏按压法
- C. 俯卧压背法

心脏负责心跳

找到考证网

< 一站式报名学习考试服务平台 >



咨询



报名



关注我们

- **116** 静电现象十分普遍的电现象，  
( ) 是它的最大危害。
- **A.** 高电压击穿绝缘
- **B.** 对人体放电，直接置人于死地
- **C.** 易引发火灾

找到考证网

< 一站式报名学习考试服务平台 >



咨询



报名



关注我们

- **117** 电容器可用万用表（ ）档进行检查。
- **A.** 电流
- **B.** 电压
- **C.** 电阻 ✓

找到考证网

< 一站式报名学习考试服务平台 >



咨询



报名



关注我们

- **118** 低压断路器也称为（ ）。
- **A.**总开关
- **B.**闸刀
- **C.**自动空气开关

找到考证网

<一站式报名学习考试服务平台>



咨询



报名



关注我们

- **119** 电流从左手到双脚引起心室颤动效应，一般认为通电时间与电流的乘积大于（ ） **mA·S**就有生命危险。
- **A.30**
- **B.16**
- **C.50**

电阻 500

电流 50

找到考证网

< 一站式报名学习考试服务平台 >



咨询



报名



关注我们

120落地插座应具有牢固可靠的  
( )。

- A. 标志牌
- B. 保护盖板
- C. 开关

跟暗装开关一样，  
都需要盖板



找到考证网

< 一站式报名学习考试服务平台 >



咨询



报名



关注我们

- 121 选择漏电保护装置的灵敏度时，要避免由于正常（ ）引起的不必要的动作而影响正常供电。
- A. 泄漏电流
- B. 泄漏电压
- C. 泄漏功率

漏电漏的是  
电流

找到考证网

< 一站式报名学习考试服务平台 >



咨询



报名



关注我们

- 122 电机在运行时，要通过（ ）、看、闻等方法及时监视电动机。
- A. 记录
- B. 听
- C. 吹风

找到考证网

< 一站式报名学习考试服务平台 >



咨询



报名



关注我们

- **123** 保护线（接地或接零线）的颜色按标准应采用（ ）。
- **A. 红色**
- **B. 蓝色**
- **C. 黄绿双色**

找到考证网

< 一站式报名学习考试服务平台 >



咨询



报名



关注我们

- **124** 热继电器具有一定的 ( )  
自动调节补偿功能。
- A. 频率
- B. 时间
- C. 温度 ✓

看见热继电器正确  
答案要么温度要么过  
载 (口诀)

找到考证网

< 一站式报名学习考试服务平台 >



咨询



报名



关注我们

- **15** 导线的中直接头采用铰接时，先在中间互铰（ ）圈。
- **A.2**
- **B.1**
- **C.3**

找到考证网

< 一站式报名学习考试服务平台 >



咨询



报名



关注我们

- 126 对于低压配电网，配电容量在100kw以下时，设备保护接地的接地电阻不应超过（ ） $\Omega$ 。

- ~~A. 10~~

- B. 6

- C. 4

接地电阻10 $\Omega$ .  
防静电100 $\Omega$ . (口诀)

找到考证网

< 一站式报名学习考试服务平台 >



咨询



报名



关注我们

127 图  是()触头。 </p>

- A. 延时闭合动合
- B. 延时断开动合
- C. 延时断开动断

触头断开

找到考证网

< 一站式报名学习考试服务平台 >



咨询



报名



关注我们

• **128** 拉开闸刀时，如果出现电弧，应（ ）。

• **A. 迅速拉开**

• **B. 立即合闸**

• **C. 缓慢拉开**

→ 合闸瞬间电流无

法估量。



找到考证网

< 一站式报名学习考试服务平台 >



咨询



报名



关注我们

- **129** 照明系统中的每一单相回路上，灯具与插座的数量不宜超过（ ）个。
- **A.20**
- **B.25** ✓ 必选 (口诀)
- **C.30**

找到考证网

< 一站式报名学习考试服务平台 >



咨询



报名



关注我们

- **130** 继电器是一种根据 ( ) 来控制电路“接通”或“断开”的一种自动电器。
  - **A.** 外界输入信号 ( 电信号或非电信号 )
  - **B.** 电信号
  - **C.** 非电信号

A选项包含B跟C

找到考证网

< 一站式报名学习考试服务平台 >



咨询



报名



关注我们

• 131 接地电阻测量仪是测量 ( ) 的装置。

• A. 直流电阻

• B. 绝缘电阻

• C. 接地电阻

接地测接地

口诀：前后对应

找到考证网

< 一站式报名学习考试服务平台 >



咨询



报名



关注我们

- **132** 电伤是由电流的（ ）效应对人体所造成的伤害。
- **A. 化学**
- **B. 热**
- **C. 热、化学与机械**

C选项包含A跟B

找到考证网

< 一站式报名学习考试服务平台 >



咨询



报名



关注我们

- **133** 单相三孔插座的上孔接  
( )。

- **A.**相线

- **B.**零线

- **C.**~~地线~~

左零右火上接地

找到考证网

< 一站式报名学习考试服务平台 >



咨询



报名



关注我们

- **134** 墙边开关安装时距离地面高度为 ( ) m。
- **A. 1.3** ✓
- **B. 1.5**
- **C. 2**

正常 1.3 米  
儿童 1.8 米

找到考证网

< 一站式报名学习考试服务平台 >



咨询



报名



关注我们

- 135 属于配电电器的有 ( )。
- A. 接触器 → 控制
- B. ~~熔断器~~
- C. 电阻器

找到考证网

< 一站式报名学习考试服务平台 >



咨询



报名



关注我们

- **136** 按国际和我国标准，（ ）线只能用做保护接地或保护接零线。
- **A. 蓝色**
- **B. 黑色**
- **C. 黄绿双色**



找到考证网

< 一站式报名学习考试服务平台 >



咨询



报名



关注我们

- 137 热继电器的整定电流为电动机额定电流的（ ） %

- A. 100

- B. 120

- C. 130

热继电器过载保护

大于105%自动保护

找到考证网

< 一站式报名学习考试服务平台 >





咨询



报名



关注我们

- **138** 电动机定子三相绕组与交流电源的连接叫接法，其中Y为（ ）。
- **A.** 三角形接法 → 
- **B.** 星形接法 
- **C.** 延边三角形接法

找到考证网

< 一站式报名学习考试服务平台 >



咨询



报名



关注我们

- **139** 当电气设备发生接地故障，接地电流通过接地体向大地流散，若人在接地短路点周围行走，其两脚之间的电位差引起的触电叫（ ）触电。
- **A. 单相**
- **B. 跨步电压**
- **C. 感应电**

找到考证网

< 一站式报名学习考试服务平台 >



咨询



报名



关注我们

- **140** 特种作业人员在操作证有效期内，连续从事本工种**10**年以上，无违法行为，经考核发证机关同意，操作证复审时间可延长至（ ）年。
- **A.4**
- **B.6** ✓ *正常3年复审*
- **C.10**

找到考证网

< 一站式报名学习考试服务平台 >



咨询



报名



关注我们

141 “禁止合闸，有人工作”的标志牌应制作为（ ）。

A. 白底红字 ✓

B. 红底白字

C. 白底绿字

低压红字  
口诀

找到考证网

< 一站式报名学习考试服务平台 >



咨询



报名



关注我们

142 ( ) 仪表由固定的线圈, 可转动的线圈及转轴、游丝、指针、机械调零机构等组成。

A. 电磁式 → 铁芯

B. 磁电式 → 永磁体

C. 电动式 → 两个D

找到考证网

< 一站式报名学习考试服务平台 >



咨询



报名



关注我们

143 特种作业操作证每（ ）年复审1次。

A.4

B.5

C.3

找到考证网

< 一站式报名学习考试服务平台 >



咨询



报名



关注我们

**144** 稳压二极管的正常工作状态是  
( )。

- A. 截至状态
- B. 导通状态
- C. 反向击穿状态



找到考证网

< 一站式报名学习考试服务平台 >



咨询



报名



关注我们

145 电烙铁用于（ ）导线接头等。

A. 铜焊

B. ~~锡焊~~

稀焊

C. 铁焊

找到考证网

< 一站式报名学习考试服务平台 >



咨询



报名



关注我们

146 导线接头的绝缘强度应 ( )  
原导线的绝缘强度。

A. 大于

B. 等于

C. 小于

找到考证网

< 一站式报名学习考试服务平台 >



咨询



报名



关注我们

147 为避免高压变配(电站)遭受直击雷，引发大面积停电事故，一般可用（ ）来防雷。

- A. 接闪杆 *也叫避雷针*
  - B. 阀型避雷器
  - C. 接闪网
- 是建筑物*

找到考证网

< 一站式报名学习考试服务平台 >



咨询



报名



关注我们

**148** 在民用建筑物的配电系统中，  
一般采用（ ）断路器。

**A.** 电动式

**B.** 框架式

**C.** 漏电保护

找到考证网

< 一站式报名学习考试服务平台 >



咨询



报名



关注我们

**149** 建筑施工工地的用电机械设备  
( ) 安装漏电保护装置。

A. 不应

B. 应 ✓

C. 没规定

找到考证网

< 一站式报名学习考试服务平台 >



咨询



报名



关注我们

**150** 铁壳开关在作控制电机启动和暂停时，要求额定电流要大于或等于（ ）倍电动机额定电流。

A. 一

B. 两

C. 三

开关两倍

找到考证网

< 一站式报名学习考试服务平台 >



咨询



报名



关注我们

151 下面 ( ) 属于顺磁性材料。

A. 铜

B. 水

C. 空气

空气对磁场几乎  
没有影响

找到考证网

< 一站式报名学习考试服务平台 >



咨询



报名



关注我们

152 三个阻值相等的电阻串联时的总电阻是并联时总电阻的（ ）倍。

A.6

B.9

C.3

$$\begin{aligned} \text{串 } R &= 3R_1 \\ \text{并 } R &= \frac{R}{3} \\ 3 \times 3 &= 9 \end{aligned}$$



找到考证网

< 一站式报名学习考试服务平台 >



咨询



报名



关注我们

153 一般照明的电源优先选用 ( )  
V。

A. 220

B. 380

C. 36

找到考证网

< 一站式报名学习考试服务平台 >



咨询



报名



关注我们

**154** 为了检查可以短时停电，在触及电容器前必须（ ）。

- A. 充分放电
- B. 长时间停电
- C. 冷却之后

找到考证网

< 一站式报名学习考试服务平台 >



咨询


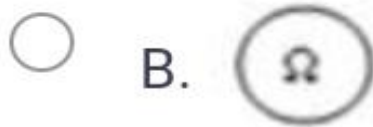



报名



关注我们

155 电流表的符号是()



电阻

电压

找到考证网

< 一站式报名学习考试服务平台 >



咨询



报名



关注我们

156 断路器的选用，应先确定断路器的（ ），然后才进行具体的参数的确定。

A. 类型

先确定型号

B. 额定电流

参数

C. 额定电压

找到考证网

< 一站式报名学习考试服务平台 >



咨询



报名



关注我们

**157** 低电压器可归为低压配电电器和（ ）电器。

**A.** 低压控制

**B.** 电压控制

**C.** 低压电动

找到考证网

< 一站式报名学习考试服务平台 >



咨询



报名



关注我们

**158** 交流接触器的电寿命约为机械寿命的（ ）倍。

A.1

B.10

C.1/20

1/20 出现就中奖

找到考证网

< 一站式报名学习考试服务平台 >



咨询



报名



关注我们

159 三相异步电动机按其（ ）的不同可分为开启式、**防护式**、封闭式三大类。

A. 供电电源的方式

B. 外壳**防护**方式

C. 结构型式

防护对防护  
(口诀)

找到考证网

< 一站式报名学习考试服务平台 >



咨询



报名



关注我们

160 电缆沟内的油火只能用（ ）  
种灭火器材扑灭。

A. 二氧化碳

→ 低压带电

B. 泡沫覆盖

C. 干粉

→ 高压带电



找到考证网

< 一站式报名学习考试服务平台 >



咨询



报名



关注我们

**161** 由电流产生的热量、电火花或电弧是引起电气火灾和爆炸的（ ）。

**A.** 间接原因

**B.** 偶然原因

**C.** 直接原因

找到考证网

< 一站式报名学习考试服务平台 >



咨询



报名



关注我们

162 数字式仪表结构由以下四部分组成：测量线路、A/D转换器、显示屏及（ ）。

A. 电源

B. 选择开关

C. 表棒

数字式仪表是

电动仪表

找到考证网

< 一站式报名学习考试服务平台 >



咨询



报名



关注我们

163 电路在工作时有三种状态：通路状态、断路状态和（ ）。

~~A. 短路状态~~

B. 开路状态 → 断路

C. 工作状态 → 通路

找到考证网

< 一站式报名学习考试服务平台 >



咨询



报名



关注我们

**164** 应当注意，不论是什么建筑物，对其屋角、屋脊和屋檐等易受雷击突出部位都应装设（ ）

- A. 避雷针 → 建筑物最顶端
- B. ~~避雷带~~
- C. 避雷器 → 设备内部

找到考证网

< 一站式报名学习考试服务平台 >



咨询



报名



关注我们

165 电机、低压电器外壳防护等级的标志由字母“IP”及紧接两个数字组成，如封闭式的防护等级标志为（ ）

A. 1P23

B. IP44

C. IP43

两个3排除

找到考证网

< 一站式报名学习考试服务平台 >



咨询



报名



关注我们

166 对触电者进行心肺复苏时，触电者必须处于（ ）。

A. 恢复体位

B. 复苏体位

C. 昏迷体位

复苏对复苏  
(口诀)

找到考证网

< 一站式报名学习考试服务平台 >



咨询



报名



关注我们

167 避雷器中保护间隙主要用于  
( )。

A. 低压大电流电网

B. 高压小电流电网

C. 低压小电流电网

保护避雷器

找到考证网

< 一站式报名学习考试服务平台 >



咨询



报名



关注我们

168 1:1隔离变压器的一、二次接线端子应（ ）。

A. 应采用封闭措施或加护罩

B. 一端与是否接地或接零无关

C. 一端必须接地或接零

两个一端排除



找到考证网

< 一站式报名学习考试服务平台 >



咨询



报名



关注我们

169抽水（喷灌）站电气装置和设备，在使用前应检查电器设施是否完好，并进行（ ）测试。

A. 接地电阻

B.  绝缘电阻

C. 泄露电阻

潮湿环境绝缘容易老化

找到考证网

< 一站式报名学习考试服务平台 >



咨询



报名



关注我们

**170** 封闭式电气设备的带电部分有严密的罩盖，潮气、粉尘等不易侵入，这种电气设备可用于（ ）。

A. 触电危险性小的普通环境

B. 触电危险性大的危险环境

C. 触电危险性大的普通环境

前后对应

找到考证网

<一站式报名学习考试服务平台>



咨询



报名



关注我们

171 在畜牧场，对饲料加工冲洗，消毒等移动电器的金属外壳必须可靠接地，使用时穿好绝缘靴，戴好绝缘手套并要（ ）。

- A. ~~戴好~~安全帽
- B. 有人监护
- C. ~~戴好~~防护眼镜

找到考证网

< 一站式报名学习考试服务平台 >



咨询



报名



关注我们

172 ( ) 是登杆作业时必备的保护用具，无论用登高板或脚扣都要用其配合使用。

A. 安全带

B. 梯子

C. 手套

找到考证网

< 一站式报名学习考试服务平台 >



咨询



报名



关注我们

173 电动机在额定工作状态下运行时，定子电路所加的（ ）叫额定电压。

- A.  线电压 *王牌必选*
- B. 相电压
- C. 额定电压

找到考证网

< 一站式报名学习考试服务平台 >



咨询



报名



关注我们

174 为了人身和设备安全，互感器的二次侧必须实行（ ）。

A. 多点接地

B. 重复接地

C. 一点接地

互感器专一，只有一个接地点  
电流互感器不允许开路  
电压互感器不允许短路。

找到考证网

< 一站式报名学习考试服务平台 >



咨询



报名



关注我们

175 电力电缆的终端头金属外壳  
( )。

A. 必须接地 *保护接地*

B. 在配电盘装置一端须接地

C. 在杆上须接地

找到考证网

< 一站式报名学习考试服务平台 >



咨询



报名



关注我们

176 开关用来切，合的电路为  
( )。

- A. 空载电路 → 备用电路
- B. 负载电路 → 正常电路
- C. 短路故障电路 → 故障电路



找到考证网

< 一站式报名学习考试服务平台 >



咨询



报名



关注我们

177 中性点不接地系统发生单相接地时应（ ）。

A. 立即跳闸

B. 带时限跳闸

C. 动作于发出信号

两个跳闸排除

不会跳闸, 允许在2个小时内找到问题并解决

找到考证网

< 一站式报名学习考试服务平台 >



咨询



报名



关注我们

178 安装配电盘控制盘上的电气仪表外壳（ ）。

A. 必须接地

~~B. 不必接地~~

C. 视情况定

找到考证网

< 一站式报名学习考试服务平台 >



咨询



报名



关注我们

179 电力变压器的油起（ ）作用。

- A. 线圈润滑
- B. 绝缘和防锈
- C. 绝缘和散热

找到考证网

< 一站式报名学习考试服务平台 >



咨询



报名



关注我们

**180** 小电流接地系统发生单相接地时中性点对地电压上升为相电压.非接地两相对地电压为 ( )。

A. 相电压

B. 电压下降

C. ~~线电压~~

王瓶必选

找到考证网

< 一站式报名学习考试服务平台 >



咨询



报名



关注我们

**181** 钳形电流表使用时应先用较大  
量程，然后再视被测电流的大小变  
换量程。切换量程时应（ ）。

**A.**直接转动量程开关

**B.**先将钳口打开，再转动量程开关

找到考证网

< 一站式报名学习考试服务平台 >



咨询



报名



关注我们

182 要测量380V交流电动机绝缘电阻，应选用额定电压为（ ）的绝缘电阻表。

A. 250V

B. 500V ✓

C. 1000V

安全经济原则

选接近

找到考证网

< 一站式报名学习考试服务平台 >



咨询



报名



关注我们

183 用绝缘电阻表摇测绝缘电阻时，要用单根电线分别将线路L及接地E端与被测物联接。其中（ ）端的联结线要与大地保持良好绝缘。

A.L

B.E

C.G

找到考证网

< 一站式报名学习考试服务平台 >



咨询



报名



关注我们

**184** 两只额定电压相同的电阻，串联接在电路中，则阻值较大的电阻（ ）。

A. 发热量较大

$$Q = I^2 R T$$

B. 发热量较小

C. 没有明显差别



找到考证网

< 一站式报名学习考试服务平台 >



咨询



报名



关注我们

**185** 三相电动机额定电流计算公式：  
中的电压 $U_e$ 是指（ ）。

A. 相电压

B. 线电压 *工牌*

C. 相电压或线电压

找到考证网

< 一站式报名学习考试服务平台 >



咨询



报名



关注我们

186 使用螺口灯头时，中心触点应接在（ ）上。

A. 零线 *→ 螺纹*

B. 相线 *✓*

C. 零线或相线

找到考证网

< 一站式报名学习考试服务平台 >



咨询



报名



关注我们

187 通过熔体的电流越大，熔体的熔断时间越（ ）。

A.长

B.短

C.不变

$$Q = I^2 R T$$

找到考证网

< 一站式报名学习考试服务平台 >



咨询



报名



关注我们

**188** 在二次接线回路上工作，无需将高压设备停电时，应用（ ）。

**A.** 倒闸操作票

**B.** 第一种工作票

**C.** 第二种工作票

带电

找到考证网

< 一站式报名学习考试服务平台 >



咨询



报名



关注我们

189 测量500V以下设备的绝缘应选用（ ）的摇表。

A. 2500V

B. 1000V

C. 5000V

安全经济原则

找到考证网

< 一站式报名学习考试服务平台 >



咨询



报名



关注我们

190 用万用表R×100档测电阻，当读数为 $50\Omega$ 时，实际被测电阻为（ ）。

A.  $100\Omega$

B.  $5000\Omega$

$$50 \times 100 = 5000$$

C.  $50\Omega$

找到考证网

< 一站式报名学习考试服务平台 >



咨询



报名



关注我们

**191** 万用表使用完毕后应将旋钮置于（ ）档。

**A.** 电阻档

**B.** 交流电压最高档

**C.** 电流档

找到考证网

< 一站式报名学习考试服务平台 >



咨询



报名



关注我们

192 若电路中的电流增大到熔丝的  
额定值时，熔丝将（ ）

A. 立即熔断

B. 1小时内熔断

C. 不会熔断

对于不会断



找到考证网

< 一站式报名学习考试服务平台 >



咨询



报名



关注我们

**193** 熔断器内的熔体，在电路里所起的作用是（ ）。

A. 过载保护

B. 失压保护

C. 短路保护

找到考证网

< 一站式报名学习考试服务平台 >



咨询



报名



关注我们

194 工厂区低压架空线路的对地距离应不低于（ ）。

A. 4.5m

B. 6.0m

C. 7.5m

两个0.5半数排除选  
整数

找到考证网

< 一站式报名学习考试服务平台 >



咨询



报名



关注我们

195 电动机若采用Y?  $\Delta$ 启动时，其启动电流为全压启动的（ ）。

A. 1倍

B.  $1/3$ 倍 ✓

C. 3倍

找到考证网

< 一站式报名学习考试服务平台 >



咨询



报名



关注我们

196 对36V电压线路的绝缘电阻，  
要求不小于（ ）。

A. 0.036MΩ

B. 0.22MΩ

C. 0.5MΩ

绝缘电阻  $> 0.5M\Omega$

正常  $> 0.5M\Omega$  受潮

找到考证网

< 一站式报名学习考试服务平台 >



咨询



报名



关注我们

197 放生电气火灾后必须进行带电  
灭火时，应该使用（ ）。

A. 消防水喷射

B.  二氧化碳灭火器

C. 泡沫灭火器 ~~油火~~

低压带电灭火

找到考证网

< 一站式报名学习考试服务平台 >



咨询



报名



关注我们

198 起重机具与1kv以下带电的距离，应该为（ ）。

A.1.0m

B.1.5m

C.2.0m

两个整数排除带半数0.5

找到考证网

< 一站式报名学习考试服务平台 >



咨询



报名



关注我们

199 直流电流表与电压表指示的数值，是反映该交的变量的（ ）。

A. 最大值

B. 平均值

C. 有效值

直流平均交流有效

找到考证网

< 一站式报名学习考试服务平台 >



咨询



报名



关注我们

200 当变压器处在下列状态下运行时，其工作效率最高（ ）。

A. 近与满载

B.  半载左右

C. 轻载



找到考证网

< 一站式报名学习考试服务平台 >



咨询



报名



关注我们

201 电压表的内阻 ( ) 。

A. 越小越好

B. 越大越好

C. 适中为好

压大流小 (口诀)

找到考证网

< 一站式报名学习考试服务平台 >



咨询



报名



关注我们

202机床上的低压照明灯，其电压不应超过（ ）。

A. 110V

B. 36V ✓

C. 12V

特别潮湿或容器内

找到考证网

< 一站式报名学习考试服务平台 >



咨询



报名



关注我们

203 不允许自启动的电动机，还应装有如下保护（ ）。

A. 反时限保护

B. 联锁保护

C. 失压脱扣保护

不允许自启动是失压保护。

找到考证网

< 一站式报名学习考试服务平台 >



咨询



报名



关注我们

**204** 电流的大小是指每秒钟内通过导体横截面积的（ ）量。

A.有功

B.电荷

C.无功

找到考证网

< 一站式报名学习考试服务平台 >



咨询



报名



关注我们

205 当人体触电时间越长，人体的电阻值（ ）。

A. 变大

B. 变小 ✓

C. 不变

电阻减小, 电流增大, 危险

找到考证网

< 一站式报名学习考试服务平台 >



咨询



报名



关注我们

206 电气设备保护接地电阻越大，发生故障时漏电设备外壳对地电压（ ）。

A. 越低

B. 不变

C. 越高

正常接地电阻越小越好

找到考证网

< 一站式报名学习考试服务平台 >



咨询



报名



关注我们

207 测量变压器绕组对地绝缘电阻值接近零值，说明该绕组（ ）。

- A. 受潮  $< 0.5 M\Omega$
- B. 正常  $> 0.5 M\Omega$
- C. 绝缘击穿或接地短路

找到考证网

< 一站式报名学习考试服务平台 >



咨询



报名



关注我们

208 在容器内工作时，照明电压应选用（ ）伏。

A. 12 ✓ 特别潮湿容器

B. 24 潮湿

C. 36 机床



找到考证网

< 一站式报名学习考试服务平台 >



咨询



报名



关注我们

209 当某一电力线路发生接地，距离地点愈近，跨步电压（ ）。

A. 不变

B. 愈低

C. 愈高 ✓

找到考证网

< 一站式报名学习考试服务平台 >



咨询



报名



关注我们

**210** 在带电设备周围进行测量工作时，工作人员应使用（ ）尺。

**A.** 钢卷尺

**B.** 线

**C.** 加强型皮尺

找到考证网

< 一站式报名学习考试服务平台 >



咨询



报名



关注我们

211 隔离开关的主要作用是（ ）。

A. 断开负荷电路

B. 断开无负荷电路

C. 断开短路电流

开关只能隔离断电源

接通, 断开电流的是断路器

找到考证网

< 一站式报名学习考试服务平台 >



咨询



报名



关注我们

212 1kv及以下架空线路通过居民区时，导线与地面的距离在导线最大弛度时，应不小于（ ）。

A.5m

B.6m

C.7m

5. 7是单数排除  
选双数6

找到考证网

< 一站式报名学习考试服务平台 >



咨询



报名



关注我们

213 变压器停电退出运行，首先应  
( )。

A. 断开各负荷

B. 断开高压侧开关

C. 断开低压侧开关

停电先用断路器断流

两个开关排除

找到考证网

< 一站式报名学习考试服务平台 >



咨询



报名



关注我们

214 新装和大修后的低压线路和设备对绝缘体电阻不应小于（ ）。

A.  $1M\Omega$

B.  $0.1M\Omega$

C.  $0.5M\Omega$

绝缘电阻  $\geq 0.5M\Omega$  正常

找到考证网

< 一站式报名学习考试服务平台 >



咨询



报名



关注我们

**215** 电器设备未经验电，一律视为  
( )。

**A.** 有电，不准用手触及

**B.** 无电，可以用手触及

**C.** 无危险电压

找到考证网

< 一站式报名学习考试服务平台 >



咨询



报名



关注我们

216 如果线路上有人工作，停电作业时应在线路开关好刀闸操作手柄上悬挂（ ）的标志牌

A. 止步，高压危险

B. ~~禁止合闸~~，线路有人工作

C. 在此工作



找到考证网

< 一站式报名学习考试服务平台 >



咨询



报名



关注我们

217 10kv以下带电设备与操作人员正常活动范围的最小安全距离为（ ）。

A.0.35m

B.0.4m

~~C.0.6m~~

找到考证网

< 一站式报名学习考试服务平台 >



咨询



报名



关注我们

218 日光灯属于（ ）光源。

A. 气体放电

B. 热辐射

→ 碘钨灯、白炽灯

C. 生物放电

找到考证网

< 一站式报名学习考试服务平台 >



咨询



报名



关注我们

219 交流电路中电流比电压滞后 $90^\circ$ ，该电路属于（ ）电路。

A. 纯电阻

B. 纯电感

C. 纯电容

电流在前选电感，

电压在前选电容

找到考证网

< 一站式报名学习考试服务平台 >



咨询



报名



关注我们

220 一般情况下220V工频电压作用下人体的电阻为（ ） $\Omega$ 。

A. 800至1600

B. 500至1000

C. 1000至2000

找到考证网

<一站式报名学习考试服务平台>



咨询



报名



关注我们

**221** 在雷暴雨天气，应将门和窗户等关闭，其目的是为了防止（ ）侵入屋内，造成火灾、爆炸或人员伤亡。

A. 球形雷 → 门窗

B. 感应雷 → 二次雷击

C. 直接雷 → 直接作用在建筑物上

找到考证网

< 一站式报名学习考试服务平台 >



咨询



报名



关注我们

222 胶壳刀开关在接线时，电源线接在（ ）。

A. 上端（静触点）

B. 下端（动触点）

C. 两端都可

找到考证网

< 一站式报名学习考试服务平台 >



咨询



报名



关注我们

**223** 更换和检修用电设备时，最好的安全措施时（ ）。

- A. 切断电源
- B. 站在板凳上操作
- C. 戴橡皮手套操作

找到考证网

< 一站式报名学习考试服务平台 >



咨询



报名



关注我们

224 在易燃易爆场所使用的照明灯具应采用（ ）灯具。

A. 防爆型

B. 防潮型

C. 普通型

口诀：一一对应



找到考证网

< 一站式报名学习考试服务平台 >



咨询



报名



关注我们

225 碳在自然界中有金刚石和石墨两种存在形式，其中石墨是（ ）。

A. 绝缘体

B. 导体

C. 半导体

找到考证网

< 一站式报名学习考试服务平台 >



咨询



报名



关注我们

226 感应电流的方向总是使感应电流的磁场阻碍引起感应电流的磁通的变化，这一定律称为（ ）。

A. ~~特~~斯拉定律

B. 法~~拉~~第定律

C. 楞次定律

特斯拉法拉利。  
车不选

找到考证网

< 一站式报名学习考试服务平台 >



咨询



报名



关注我们

227 ~~星~~三角降压启动，是启动时把  
定子三相绕组作（ ）联结。

A. 三角形

B. 星形

C. 延边三角形

星在前先星形

找到考证网

< 一站式报名学习考试服务平台 >



咨询



报名



关注我们

**228** 当低压电器火灾发生时，首先应做的是（ ）。

**A.** 迅速离开现场去报告领导

**B.** 迅速设法切断电源

**C.** 迅速用干粉或者二氧化碳灭火器  
灭火

找到考证网

< 一站式报名学习考试服务平台 >



咨询



报名



关注我们

229 特种作业人员必须年满（ ）  
周岁。

A. 18 ✓

B. 19

C. 20

18-60周岁

找到考证网

< 一站式报名学习考试服务平台 >



咨询



报名



关注我们

**230** 几种线路同杆架设时，必须保证高压线路在低压线路（ ）。

A. 右方

B. 左方

C. 上方

找到考证网

< 一站式报名学习考试服务平台 >



咨询



报名



关注我们

**231** 电气火灾的引发是由于危险温度的存在，危险温度的引发主要是由于（ ）。

A. 电压波动

B. 设备负载轻

C. 电流过大

过载保护

找到考证网

< 一站式报名学习考试服务平台 >



咨询



报名



关注我们

232 三相四线制的零线的截面积一般（ ）相线截面积。

A. 大于

B. 小于

C. 等于

三相四线零线细



找到考证网

< 一站式报名学习考试服务平台 >



咨询



报名



关注我们

233 旋转磁场的旋转方向决定于通入定子绕组中的三相交流电源的相序，只要任意调换电动机（ ）所接交流电源的相序，旋转磁场既反转。

A. 一相绕组

B. 两相绕组

C. 三相绕组 全部

找到考证网

< 一站式报名学习考试服务平台 >



咨询



报名



关注我们

234 单极型半导体器件是 ( ) 。

A. 双极性二极管

B. 二极管

C. 场效应管

两个二极管排除

找到考证网

< 一站式报名学习考试服务平台 >



咨询



报名



关注我们

**235** 更换熔体时，原则上新熔体与旧熔体的规格要（ ）。

A. 不同

B. 相同 ✓

C. 更新

找到考证网

< 一站式报名学习考试服务平台 >



咨询



报名



关注我们

236 线路单相短路是指（ ）。

A. 电流太大

B. 功率太大

C. 零火线直接接通

找到考证网

< 一站式报名学习考试服务平台 >



咨询



报名



关注我们

237 下列灯具中功率因数最高的是  
( )。

A. 白炽灯

王雅迪选

B. 节能灯

C. 日光灯

找到考证网

< 一站式报名学习考试服务平台 >



咨询



报名



关注我们

238 事故照明一般采用（ ）。

A. 日光灯

B. 白炽灯

C. 高压汞灯

正确答案

找到考证网

< 一站式报名学习考试服务平台 >



咨询



报名



关注我们

239 电能表是测量（ ）用的仪器。

A. 电压

B. 电流

C. 电能

电能测电能

口诀

找到考证网

< 一站式报名学习考试服务平台 >



咨询



报名



关注我们

**240** 异步电动机在启动瞬间，转子绕组中感应的电流很大，使定子流过的启动电流也很大，约为定额电流的（ ）倍。

**A.2**

**B.4至7**

**C.9至10**



找到考证网

< 一站式报名学习考试服务平台 >



咨询



报名



关注我们

241 在易燃、易爆危险场所，供电线路应采用（ ）方式供电。

A. 单向三线制，三相~~四~~线制

B. 单向三线制，三相五线制

C. 单相~~两~~线制，三相五线制

纯单数1335, 不选双  
数4.2

找到考证网

< 一站式报名学习考试服务平台 >



咨询



报名



关注我们

242 合上电源开关，熔丝立即烧断，  
则线路（ ）。

A. ~~短路~~

B. 漏电

C. 电压太高

找到考证网

< 一站式报名学习考试服务平台 >



咨询



报名



关注我们

243带电体的工作电压越高，要求其空间的空气距离（ ）。

A. 一样

B. 越大

C. 越小

跟吹气球原理一样

找到考证网

< 一站式报名学习考试服务平台 >



咨询



报名



关注我们

244国家标准规定凡（ ）kw以上的电动机均采用三角形接法。

A.3

B.4

C.7.5

醒4角 (口诀)

找到考证网

< 一站式报名学习考试服务平台 >



咨询



报名



关注我们

**245** 电动机在额定工作状态下运行时，（ ）的机械功率叫额定功率。

A. 允许输入

B. 允许输出

C. 推动电机

找到考证网

< 一站式报名学习考试服务平台 >



咨询



报名



关注我们

246 载流导体在磁场中将会受到  
( ) 的作用

A. 电磁力

B. 磁通

C. 电动势

垂直最大  
平行为0

找到考证网

< 一站式报名学习考试服务平台 >



咨询



报名



关注我们

247 ( ) 仪表可直接用于交、直  
流测量，且精确度高。

A. 电磁式

B. 磁电式

C. 电动式

→ 低  
只能测直流  
磁电式 磁低动高

找到考证网

<一站式报名学习考试服务平台>



咨询



报名



关注我们

248 人体同时接触带电设备或线路中的两相导体时，电流从一相通过人体流入另一相，这种触电现象称为（ ）触电。

A.单相

B.两相

$1+1=2$

C.感应电



找到考证网

< 一站式报名学习考试服务平台 >



咨询



报名



关注我们

249 低压电工作业是指对（ ）V以下的电气设备进行安装、调试、运行操作等作业。

A. 500

电气设备 1000V 以下 低压

B. 250

对地电压 250V 以下 低压

C. 1000 ✓

找到考证网

< 一站式报名学习考试服务平台 >



咨询



报名



关注我们

**250** 电动机（ ）作为电动机磁通的通路，要求材料有良好的导磁性能。

A. 端盖

B. 机座

C. 定子铁芯

找到考证网

< 一站式报名学习考试服务平台 >



咨询



报名



关注我们

251 按照计(数)方法, 电工仪表主要分为指针式仪表和 ( ) 式仪表。

A. 比较

B. 电动

C. 数字

数对数 (口诀)

找到考证网

< 一站式报名学习考试服务平台 >



咨询



报名



关注我们

252防静电的接地电阻要求不大于  
( )  $\Omega$

A. 40

B. 10

C. 100

接地电阻  $10\Omega$ .

防静电  $100\Omega$

找到考证网

< 一站式报名学习考试服务平台 >



咨询



报名



关注我们

**253** 交流接触器的机械寿命是指在  
不带负载的操作次数，一般达（ ）。

A. 10万次以下

B. 600至1000万次

C. 10000万次以上

以下, 以上排除选

居间

找到考证网

< 一站式报名学习考试服务平台 >



咨询



报名



关注我们

**254** 当电气火灾发生时，应首先切断电源再灭火，但当电源无法切断时，只能带电灭火，**500v**低压配电柜灭火可选用的灭火器是（ ）。

- A. 二氧化碳~~灭火器~~ ✓ 低压带电
- B. 泡沫灭火器 油火
- C. 水基式灭火器

找到考证网

< 一站式报名学习考试服务平台 >



咨询



报名



关注我们

255 并联电力电容器的作用是  
( )。

A. 降低功率因数

B.  提高功率因数

C. 维持电流

并联补偿电容器

补偿是提高

找到考证网

< 一站式报名学习考试服务平台 >



咨询



报名



关注我们

256 利用（ ）来降低加在定子三相绕组上的电压的启动叫自耦降压启动。

A. 自耦变压器

B. 频敏变压器

C. 电阻器

自耦对自耦



找到考证网

< 一站式报名学习考试服务平台 >



咨询



报名



关注我们

257 电机在正常运行时的声音，是平稳、轻快、（ ）和节奏的。

A. 尖叫

B. ~~均匀~~ 正常的声音

C. 摩擦

找到考证网

< 一站式报名学习考试服务平台 >



咨询



报名



关注我们

**258**正确选用电器应遵循的两个基本原则是安全原则和（ ）原则。

A. 性能

B. 经济 ✓

C. 功能

找到考证网

< 一站式报名学习考试服务平台 >



咨询



报名



关注我们

**259** 导线接头缠绝缘胶布时，后一圈压在前一圈脚步宽度的（ ）。

A. 1/3

B. 1/2

C. 1

找到考证网

< 一站式报名学习考试服务平台 >



咨询



报名



关注我们

260 绝缘手套属于（ ）安全用具。

A. 直接

B. 辅助

C. 基本

→ 绝缘强度能承受设备正常工作电压

找到考证网

< 一站式报名学习考试服务平台 >



咨询



报名



关注我们

261 相线应接在螺口灯头的（ ）。

A. 中心端子

B. 螺纹端子 → 零线

C. 外壳

找到考证网

< 一站式报名学习考试服务平台 >



咨询



报名



关注我们

262 万用表实质是一个带有整流器的（ ）仪表。

- A. 磁电式 *→ 只能测直流电流*
- B. 电磁式 *→ 可以测量交、直流电流*
- C. 电动式

找到考证网

< 一站式报名学习考试服务平台 >



咨询



报名



关注我们

263 当电压为5v时，导体的电阻值为5欧，那么当电阻两端电压为2v时，导体的电阻值为（ ）欧。

A.10

B.5

C.2

导体不变电阻不变

找到考证网

< 一站式报名学习考试服务平台 >



咨询



报名



关注我们

264 在狭窄场所如铁锅、金属容器、管道内作业时应使用（ ）工具。

A. II类 → 一般场所

B. I类

C. III类 ✓



找到考证网

< 一站式报名学习考试服务平台 >



咨询



报名



关注我们

265 电容器组禁止（ ）。

A. 带电合闸

B. 带电荷合闸

C. 停电合闸

找到考证网

< 一站式报名学习考试服务平台 >



咨询



报名



关注我们

266 电动势的方向是（ ）。

A. 从负极指向正极

B. 从正极指向负极

C. 与电压方向相同

电动势从低电位指向高电位

找到考证网

< 一站式报名学习考试服务平台 >



咨询



报名



关注我们

267 测量电压时，(电压)表应与被测电路 ( )。

A. 并联 ✓

B. 串联 → 电流

C. 正接

找到考证网

< 一站式报名学习考试服务平台 >



咨询



报名



关注我们

268 **热继电器**的保护特性与电动机过载特性贴近，是为了充分发挥电机的（ ）能力。

A. ~~过载~~

B. 控制

C. 节流

找到考证网

< 一站式报名学习考试服务平台 >



咨询



报名



关注我们

268 钳形电流表测量电流时，可以在（ ）电路的情况下进行。

A. 短接

B. 断开

C. 不断开

找到考证网

< 一站式报名学习考试服务平台 >



咨询



报名



关注我们

269 低压线路中的零线采用的颜色是（ ）。

A. 深蓝色

B. ~~淡蓝色~~

C. 黄绿双色 → 保护线

找到考证网

< 一站式报名学习考试服务平台 >



咨询



报名



关注我们

270 绝缘安全用具分为（ ）安全用具和辅助安全用具。

A. 间接

B. 直接

C. 基本

找到考证网

< 一站式报名学习考试服务平台 >



咨询



报名



关注我们

271 下列材料中，导电性能最好的是。

A. 铝

B. 铜

C. 铁



找到考证网

< 一站式报名学习考试服务平台 >



咨询



报名



关注我们

272雷电流产生的（ ）电压和跨步电压可直接使人触电死亡。

A. 感应 雷

B. 接触

C. 直击 雷

球形雷

找到考证网

< 一站式报名学习考试服务平台 >



咨询



报名



关注我们

273 当空气开关动作后，用手触摸其外壳，发现开关外壳较热，则动作的可能是（ ）。

A. 短路

B. 过载

C. 欠压

电流大设备发热 温度升高  
过载保护

找到考证网

< 一站式报名学习考试服务平台 >



咨询



报名



关注我们

274 一般电器所标或仪表所指示的交流电压、电流的数值是（ ）。

A. 最大值

B. 有效值

C. 平均值

直流平均  
交流有效

找到考证网

< 一站式报名学习考试服务平台 >



咨询



报名



关注我们

275 测量电动机线圈对地的绝缘电阻时，摇表的L、E两个接线柱应（ ）。

↓ 接地

A. E接在电动机出线的端子，L接电动机的外壳

B. L接在电动机出线的端子，E接电动机的外壳

C. 随便接，没有规定

找到考证网

< 一站式报名学习考试服务平台 >



咨询



报名



关注我们

276 脑细胞对缺氧最敏感，一般缺氧超过（ ）min就会造成不可逆转的损害导致脑死亡。

A.5

B.8

C.12

1分钟活8分钟缺氧

找到考证网

< 一站式报名学习考试服务平台 >



咨询



报名



关注我们

277 某四级电动机的转速为  
1440r/min，则这台电动机的转差  
率为（ ）%

A.2

4对4

B.4

C.6

找到考证网

< 一站式报名学习考试服务平台 >



咨询



报名



关注我们

278 电容的单位是（ ）。

A. 法

法拉利

B. 乏

C. 安时

找到考证网

< 一站式报名学习考试服务平台 >



咨询



报名



关注我们

279 非自动切换电器是依靠（ ）  
直接操作来进行工作的。

A. 外力（如手控）

B. 电动

C. 感应



找到考证网

< 一站式报名学习考试服务平台 >



咨询



报名



关注我们

280 熔断器的额定电流 ( ) 电动机的启动电流。

A. 等于

B. 大于

C. 小于

电动机启动电流是额定电流的4-7倍

找到考证网

< 一站式报名学习考试服务平台 >



咨询



报名



关注我们

281 ( ) 可用于操作高压跌落式熔断器、单极隔离开关及装设临时接地线等。

A. 绝缘鞋

B. 绝缘手套

C. ~~绝缘棒~~

找到考证网

< 一站式报名学习考试服务平台 >



咨询



报名



关注我们

282 属于控制电器的是（ ）。

A. 接触器 ✓

B. 熔断器 → 配电

C. 刀开关 → 主令

找到考证网

< 一站式报名学习考试服务平台 >



咨询



报名



关注我们

**283**笼形异步电机降压启动能减少启动电流，但由于电机的转矩与电压的平方成（ ），因此降压启动时转矩减少较多。

A. 反比

B. 正比

C. 对应

必选 (口诀)

找到考证网

< 一站式报名学习考试服务平台 >



咨询



报名



关注我们

284 电流继电器使用时其吸引线圈直接或通过**电流**互感器（ ）在被控电路中。

A. 并联 → 电压

B. 串联 ✓

C. 串联或并联

找到考证网

< 一站式报名学习考试服务平台 >



咨询



报名




关注我们

285 PE线或PEN线上除工作接地外其他接地点的再次接地称为( )接地。

A直接

B间接

C重复



找到考证网

< 一站式报名学习考试服务平台 >



咨询



报名



关注我们

286穿管导线内最多允许（ ）个导线接头。

A.1

B.2

~~C.0~~

不允许

找到考证网

< 一站式报名学习考试服务平台 >



咨询



报名



关注我们

**288** 生产经营单位的主要负责人在本单位发生重大生产安全事故后逃逸的，由（ ）处**15**日以下的拘留。

A. 公安机关

B. 检察机关

C. 安全生产监督管理部门



找到考证网

< 一站式报名学习考试服务平台 >



咨询



报名



关注我们

289 在对380v电机各绕组的绝缘检查中，发现绝缘电阻（ ）。则可初步判定为电动机受潮所致，应对电机进行烘干处理。

A. 大于 $0.5\Omega$

B. 小于 $10\Omega$

C. 小于 $0.5\Omega$

绝缘电阻小于 $0.5M\Omega$  受潮

接地电阻 $10\Omega$

~~✗~~

找到考证网

< 一站式报名学习考试服务平台 >



咨询



报名



关注我们

290 在三相对称交流电源星形连接中，线电压超前于所对应的相电压（ ）°。

星形电压是 $\sqrt{3}$

A. 120

B. 30 ✓

C. 60

找到考证网

< 一站式报名学习考试服务平台 >



咨询



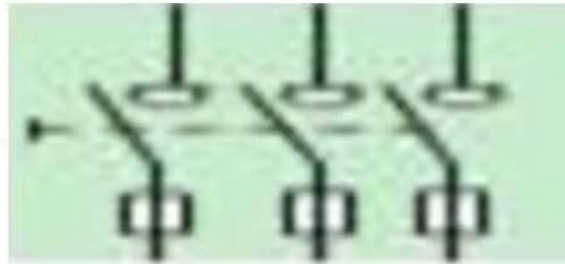
报名




关注我们

291 断路器的电气图形为()。

A.




B.



花酒

C.



找到考证网

< 一站式报名学习考试服务平台 >



咨询



报名



关注我们

292 II类手持电动工具是带电有  
( ) 绝缘的设备。

A. 防护

B. 基本

C. 双重

找到考证网

< 一站式报名学习考试服务平台 >



咨询

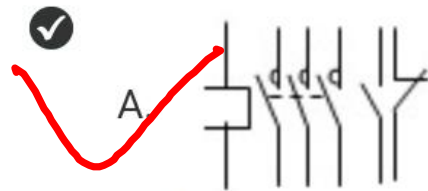


报名

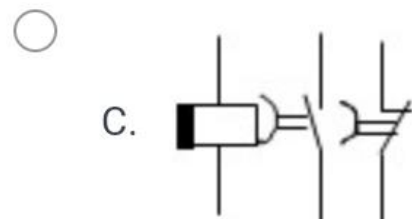
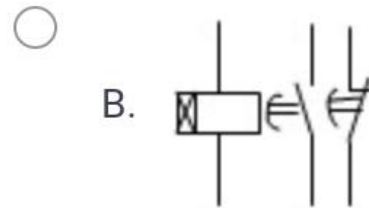


关注我们

293 接触器的电气图形为()。



复杂这个



找到考证网

< 一站式报名学习考试服务平台 >



咨询



报名



关注我们

294 在采用多级熔断器保护中，后级的熔体额定电流比前级大，目的是防止熔断器越级熔断而（ ）。

A. 减小停电范围

B. 查障困难

C. 扩大停电范围

防止的是不好的现象

找到考证网

< 一站式报名学习考试服务平台 >



咨询



报名



关注我们

295 螺口灯头的螺纹应与 ( ) 相接。

A. ~~零线~~

B. 相线 → 中心

C. 地线

找到考证网

< 一站式报名学习考试服务平台 >



咨询



报名



关注我们

296 交流10kv母线电压是指交流三相三线制的（ ）。

A. 线电压

正确答案

B. 相电压

C. 线路电压



找到考证网

< 一站式报名学习考试服务平台 >



咨询



报名



关注我们

297 电业安装工作规程上规定，对地电压为（ ）v及以下的设备为低压设备。

A. 380

B. 400

C. 250 ✓

找到考证网

< 一站式报名学习考试服务平台 >



咨询



报名



关注我们

298 ( )的电机，在通电前，必须先做各绕组的绝缘电阻检查，合格后方可通电。

A.不常用，但电机刚停止不超过一天

B.一直在用，停止没超过一天

C. ~~新装或未用过的~~

找到考证网

< 一站式报名学习考试服务平台 >



咨询



报名



关注我们

299 频敏变阻器其构造与三相电抗相似，即由三个铁芯柱和（ ）绕组组成。

A. 二个

B. 一个

C. 三个

口诀：一一对应

找到考证网

< 一站式报名学习考试服务平台 >



咨询



报名



关注我们

300 三相异步电动机一般可直接启动的功率为（ ）kw以下。

A.7

B.10

C.16

找到考证网

< 一站式报名学习考试服务平台 >



咨询



报名



关注我们

301 我们使用的照明电压为220V，这个值是交流电的()。

A. 有效值

B. 最大值

C. 恒定值

交流有效值

找到考证网

< 一站式报名学习考试服务平台 >



咨询



报名



关注我们

**302** 组合开关用于电动机可逆控制时，()允许反向接通。

- A. 可在电动机停后就
- B. 不必在电动机完全停转后就
- C. 必须在电动机完全停转后才

找到考证网

< 一站式报名学习考试服务平台 >



咨询



报名



关注我们

303 笼形异步电动机常用的降压启动有()启动、自耦  
变压器降压启动、星-三角降压启动。

A. ~~转子串电阻~~

B. 串电阻降压

C. ~~转子串频敏~~

两个转子排除选降压

找到考证网

< 一站式报名学习考试服务平台 >



咨询



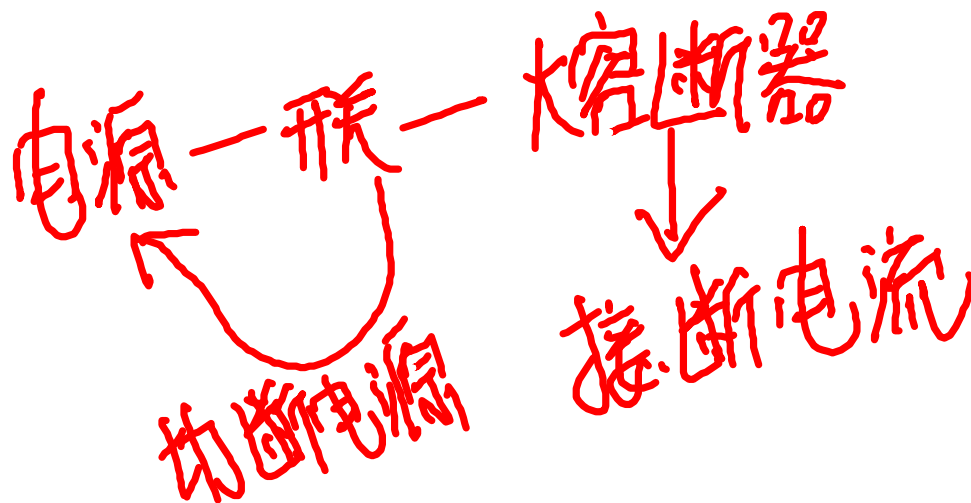
报名



关注我们

304 当一个熔断器保护一只灯时，熔断器应串联在开关()

- A. 前
- B. 后
- C. 中





找到考证网

< 一站式报名学习考试服务平台 >



咨询



报名



关注我们

305 制造指南针是利用()原理(或现象)。

- A. 磁场
- B. 电磁感应
- C. 机械

找到考证网

< 一站式报名学习考试服务平台 >



咨询



报名



关注我们

306 HTL与ITL与非门相比，具有()特点。

- A. HTL比TTL集成度高
- B. HTL比TTL工作速度高
- C. HTL比TTL抗干扰能力高

找到考证网

< 一站式报名学习考试服务平台 >



咨询



报名



关注我们

**307** 在一电压恒定的直流电路中，电阻值增大时，  
电流()。

- A. 不变
- B. 增大
- C. 减小

$$i = \frac{U}{R}$$

找到考证网

< 一站式报名学习考试服务平台 >



咨询



报名



关注我们

308 交流10kV母线电压是指交流三相三线制的()。

- A. 线电压 *10kV*
- B. 相电压
- C. 线路电压

找到考证网

< 一站式报名学习考试服务平台 >



咨询



报名



关注我们

309 我们使用的照明电压为220V，这个值是交流电的()。

- A. 有效值
- B. 最大值
- C. 恒定值

找到考证网

< 一站式报名学习考试服务平台 >



咨询



报名



关注我们

310 交流电路中，某元件电流的()值是随时间不断变化的量。

- A. 有效
- B. 平均
- C. 瞬时

时对时



找到考证网

< 一站式报名学习考试服务平台 >



咨询



报名



关注我们

**311** 当线圈中的电流()时，线圈两端产生自感电动势。

- A. 变化时
- B. 不变时
- C. 很大时

找到考证网

< 一站式报名学习考试服务平台 >



咨询



报名



关注我们

**312** 隔离开关的主要作用是()。

- A. 断开电流
- B. 拉合线路
- C. 隔断电源



找到考证网

< 一站式报名学习考试服务平台 >



咨询



报名



关注我们

313 电气设备外壳接地属于()。

A. 工作接地

B. 防雷接地

C. 保护接地

→ 中性点接地

找到考证网

< 一站式报名学习考试服务平台 >



咨询



报名



关注我们

314 线路的过电流保护是保护()的。

- A. 开关
- B. 变流器
- C. 线路

口诀

找到考证网

< 一站式报名学习考试服务平台 >



咨询



报名



关注我们

315 数字电路的特点是()。

- A. 输入输出信号都是连续的
- B. 输入输出信号都是离散的
- C. 输入连续，输出信号是离散的

找到考证网

< 一站式报名学习考试服务平台 >



咨询



报名



关注我们

**316** 测量10kV以上变压器绕组绝缘电阻，采用()V兆欧表。

- A. 2500
- B. 500
- C. 1000

选最大(王牌口诀)

找到考证网

< 一站式报名学习考试服务平台 >



咨询



报名



关注我们

**317** 照明灯具的螺口灯头接电时，()。

- A. 相线应接在中心触点端上
- B. 零线应接在中心触点端上
- C. 可任意接

口诀

找到考证网

< 一站式报名学习考试服务平台 >



咨询



报名



关注我们

**318** 电流互感器正常工作时二次侧回路可以()。

- A. 开路
- B. 短路
- C. 装熔断器

电流互感器不允许开路，  
可以短路。(口诀)

找到考证网

< 一站式报名学习考试服务平台 >



咨询



报名



关注我们

319 多台电动机在启动时应()。

- A. 按容量从大到小逐台启动
- B. 任意逐台启动
- C. 按容量从小到大逐台启动

检测检修从大到小同理  
(口诀)

找到考证网

< 一站式报名学习考试服务平台 >



咨询



报名



关注我们

320 我国220kV及以上系统的中性点均采用()。

- A. 直接接地方式
- B. ~~经消弧线圈~~接地方式
- C. ~~经大电抗器~~接地方式

两个经排除



找到考证网

< 一站式报名学习考试服务平台 >



咨询



报名



关注我们

**321** 灯泡上标有"220V, 40W"的字样, 其意义是()。

- A. 接在220V以下的电源上, 其功率是40W
- B. 接在220V电源上, 其功率是40W
- C. 接在220V以上的电源上, 其功率是40W

以下. 以上都不对

找到考证网

< 一站式报名学习考试服务平台 >



咨询



报名



关注我们

322 正弦交流电的三要素 ( ) 。

- A. 电压、电动势、电能
- B. 最大值、频率、初相角
- C. 最大值、有效值、瞬时值

找到考证网

< 一站式报名学习考试服务平台 >



咨询



报名



关注我们

**323** 两根平行载流导体，在通过同方向电流时，两导体将呈现出（ ）。

- A. 互相吸引
- B. 相互排斥 *同性*
- C. 没反应

找到考证网

< 一站式报名学习考试服务平台 >



咨询



报名



关注我们

**324** 变压器主绝缘击穿的修理步骤为：更换绝缘、烘干器身和()。

- A. 帮扎
- B. 灌入合格的变压器油
- C. 焊接引线

加油

找到考证网

< 一站式报名学习考试服务平台 >



咨询



报名



关注我们

**325** 大小相等、方向相反、不共作用线的两个平行力构成 ( )。

- A. 作用力和反作用力
- B. 平衡力
- C. 力偶

左手拉右手作实验  
是同作用在同一条作用  
线上

找到考证网

< 一站式报名学习考试服务平台 >



咨询



报名



关注我们

326 当距离保护的I段动作时，说明故障点在（ ）。

- A. 本线路全长的85%范围以内
- B. 线路全长范围内
- C. 本线路的相邻线路

找到考证网

< 一站式报名学习考试服务平台 >



咨询



报名



关注我们

327 铜线比铝线的机械性能 ( ) 。

- A. 好
- B. 差
- C. 一样

找到考证网

< 一站式报名学习考试服务平台 >



咨询



报名



关注我们

328 用于供人升降用的超重钢丝绳的安全系数为  
( )。

- A. 10
- B. 14
- C. 5~6

选最大



找到考证网

< 一站式报名学习考试服务平台 >



咨询



报名



关注我们

**329** 电力线路无论是空载、负载还是故障时，线路断路器（）。

- A. 均应可靠动作
- B. 空载时无要求
- C. 负载时无要求

空载、负载、故障全部都  
有电流通过。

找到考证网

< 一站式报名学习考试服务平台 >



咨询



报名



关注我们

**330** 电压互感器的二次回路 ( ) 。

- A. 根据容量大小确定是否接地
- B. 不一定全接地
- C. 必须接地

找到考证网

< 一站式报名学习考试服务平台 >



咨询



报名



关注我们

331 为避免电晕发生，规范要求110KV线路的导线截面积最小是（）。

A. 50

B. 70

C. 95

电晕跟气泡式低压验电器  
都是70.

找到考证网

< 一站式报名学习考试服务平台 >



咨询



报名



关注我们

**332** 露天安装变压器与火灾危险场所的距离不应小于()。

- A. 10米
- B. 15米
- C. 25米

找到考证网

<一站式报名学习考试服务平台>



咨询



报名



关注我们

333 当变压器充油或重新灌油后，空气可能进入变压器壳内，为防止变压器重瓦斯动作可()。

- A. 解除重瓦斯保护
- B. 解除轻瓦斯保护
- C. 将重瓦斯保护切换至信号

防止的是没有发生的

找到考证网

< 一站式报名学习考试服务平台 >



咨询



报名



关注我们

**334** SW6-220型少油断路器三相底座中心线误差不大于()。

- A. 5mm
- B. 8mm
- C. 10mm

误差越小越好

找到考证网

< 一站式报名学习考试服务平台 >



咨询



报名



关注我们

**335** 真空断路器大修后必须检验合闸接触器是否动作灵活，其最低动作电压应是额定电压的()。

- A. 50%
- B. 80(或65)%
- C. 85%

检验、检修从大到小

口诀

找到考证网

< 一站式报名学习考试服务平台 >



咨询



报名



关注我们

336 GN型隔离开关可动刀片进入插口的度不应小于  
( )。

- A. 80%
- B. 90%
- C. 97%

就是大于等于

≥80% 包含B 90% 也包含C 97%



找到考证网

< 一站式报名学习考试服务平台 >



咨询



报名



关注我们

**337** 电容器安装时，三相电容量的差值应调配到最小，其最大与最小的差值不应超过平均值的()。

- A. 5%
- B. 8%
- C. 10%

差值选最小

找到考证网

< 一站式报名学习考试服务平台 >



咨询



报名



关注我们

338 使用右手螺旋定则时，右手握住导线，四指指的方向是()。

- A. 电流方向 → 右手定则
- B. 导线周围磁场的方向
- C. 导线受力方向 → 左手定则

找到考证网

<一站式报名学习考试服务平台>



咨询



报名



关注我们

339 换向器表面最大功率为何值?()

- A.  $P_{nx} < 100 \sim 150 \text{W/cm}^2$
- B.  $P_{nx} < 150 \sim 200 \text{W/cm}^2$
- C.  $P_{nx} > 200 \sim 250 \text{W/cm}^2$

选最大

找到考证网

< 一站式报名学习考试服务平台 >



咨询



报名



关注我们

340 启动直流电动机时，通常在电枢回路中串入必要的电阻，目的是()。

- A. 产生必要的电磁转矩
- B. 防止飞车
- C. 限制启动电流

电动机启动电流是额定电流的4-7倍

找到考证网

< 一站式报名学习考试服务平台 >



咨询



报名



关注我们

**341** 在过载冲击时，由电枢反应引起主磁极下面的磁场畸变故障应该以()方式处理。

- A. 更换换向极
- B. 移动电刷的位置
- C. 采用补偿绕组

找到考证网

< 一站式报名学习考试服务平台 >



咨询



报名



关注我们

342 直流小母线和控制盘的电压小母线，在断开其它连接支路时，绝缘电阻应不小于()。

A. 10M

B. 20M

C. 30M

不小于包含B20,也包含

C 30

找到考证网

< 一站式报名学习考试服务平台 >



咨询



报名



关注我们

**343** 电缆中间接头的接地线，应使用截面积不小于()的裸铜软线。

- A. 10mm<sup>2</sup>
- B. 10-16mm<sup>2</sup>
- C. 25mm<sup>2</sup>

王片刚制造

找到考证网

< 一站式报名学习考试服务平台 >



咨询



报名



关注我们

**344** 制作**35kV**铅套管式中间接头时，由接头中心向两侧各量()距离作为剖铅记号。

- A. 200mm
- B. 250mm
- C. 325mm

↓  
记号越小越好.



找到考证网

< 一站式报名学习考试服务平台 >



咨询



报名



关注我们

**345** 220kV架空线路，大多采用铁塔架设，每个支持点上用()个以上悬式瓷瓶串联来支持导线。

A. 13

B. 12

C. 9

9个以上包含12,也包含13.

找到考证网

< 一站式报名学习考试服务平台 >



咨询



报名



关注我们

346 在变压器中性接地系统中，电气设备严禁采用  
()。

- A. 接地保护
- B. 接零保护
- C. 接地与接零保护

自备接地装置，严禁二次  
接地

找到考证网

< 一站式报名学习考试服务平台 >



咨询



报名



关注我们

**347** 导体在均匀磁场中切割磁力线运动时，感应电势的大小与()有关。

A. 导体的截面积

B. 导体的总长度 ~~总长度~~ **有效长度**

C. 导体运动的速度 **速度**

找到考证网

< 一站式报名学习考试服务平台 >



咨询



报名



关注我们

348 互感系数的大小值与()因素无关。

- A. 两个线圈的匝数
- B. 两线圈的相对位置
- C. 两线圈的绕向

找到考证网

< 一站式报名学习考试服务平台 >



咨询



报名



关注我们

349 下列()导线周围产生稳定磁场。

- A. 220V交流输电
- B. 380V交流输电
- C. 500V直流输电

直流稳定

找到考证网

< 一站式报名学习考试服务平台 >



咨询



报名



关注我们

**350** 在电路中，电流之所以能流动，是由电源两端的电位差造成的，我们把这个电位差叫做()。

A. 电压

B. 电源

C. 电流

↓  
叫电压

找到考证网

<一站式报名学习考试服务平台>



咨询



报名



关注我们

**351** 在一恒压的电路中，电阻R增大，电流随之()。

A. 减小

B. 增大

C. 不变

$$I = \frac{U}{R}$$

找到考证网

< 一站式报名学习考试服务平台 >



咨询



报名



关注我们

352 如果在某线圈中放入铁磁性材料，该线圈的自感系数将会()。

- A. 不变
- B. 显著增大
- C. 显著减小

放入铁磁性增强



找到考证网

<一站式报名学习考试服务平台>



咨询



报名



关注我们

**353** 几个电阻的两端分别接在一起，每个电阻两端承受同一电压，这种电阻连接方法称为电阻的()。

- A. 串联
- B. 并联
- C. 串并联

电压相同是并联。  
电流相同是串联。

找到考证网

< 一站式报名学习考试服务平台 >



咨询



报名



关注我们

354 电压互感器二次短路会使一次()。

- A. 电压升高
- B. 电压降低
- C. 熔断器熔断

电压互感器不允许短路

找到考证网

< 一站式报名学习考试服务平台 >



咨询



报名



关注我们

**355** 电压互感器低压侧两相电压降为零，一相正常，一个线电压为零则说明()。

- A. 低压侧两相熔断器断
- B. 低压侧一相铅丝断
- C. 高压侧一相铅丝断

电压互感器不允许短路。

找到考证网

< 一站式报名学习考试服务平台 >



咨询



报名



关注我们

356 电流互感器的二次额定电流一般为()。

A. 10A

B. 100A

C. 5A

找到考证网

< 一站式报名学习考试服务平台 >



咨询



报名



关注我们

357 电流互感器的二次侧应()。

- A. 没有接地点
- B. 有一个接地点
- C. 有两个接地点

互感器专一，只有一个接地点

找到考证网

<一站式报名学习考试服务平台>



咨询



报名



关注我们

358 电流互感器二次侧不允许()。

- A. 开路
- B. 短路
- C. 接仪表

电流互感器不允许开路

找到考证网

< 一站式报名学习考试服务平台 >



咨询



报名



关注我们

**359** 在6~10kV中性点不接地系统中，发生单相接地时，非故障相的相电压将()。

- A. 升高一倍
- B. 升高不明显
- C. 升高1.73倍

$\sqrt{3}$

找到考证网

< 一站式报名学习考试服务平台 >



咨询



报名



关注我们

360 发现断路器严重漏油时，应()。

- A. ~~立即~~将重合闸停用
- B. ~~立即~~断开断路器
- C. 采取禁止跳闸的措施

两个立即排除选跳闸

跳闸会引发事故



找到考证网

<一站式报名学习考试服务平台>



咨询



报名



关注我们

361 线路停电时，必须按照()的顺序操作，送电时相反。

- 断负母
- A. 断路器，负荷侧隔离开关;母线侧隔离开关
  - B. 断路器，母线侧隔离开关;负荷侧隔离开关
  - C. 负荷侧隔离开关，母线侧隔离开关，断路器

找到考证网

<一站式报名学习考试服务平台>



咨询



报名



关注我们

362 不许用()拉合负荷电流和接地故障电流。

- A. 变压器
- B. 断路器
- C. 隔离开关

开关只能切断电源

找到考证网

<一站式报名学习考试服务平台>



咨询



报名



关注我们

363 在可控硅调速系统中，选择可控硅额定平均电流应以电动机的()作为依据。

- A. 额定电压
- B. 最大过载电流
- C. 起动电流

电动机启动电流是额定电流的4-7倍

找到考证网

< 一站式报名学习考试服务平台 >



咨询



报名



关注我们

364 变压器中性点接地属于()。

A. ~~工作接地~~

B. 保护接地

C. 防雷接地

设备外壳接地

找到考证网

< 一站式报名学习考试服务平台 >



咨询



报名



关注我们

**365** 一份操作票规定由一组人员操作，()手中只能持有一份操作票。

- A. 监护人
- B. 值长
- C. 操作人

找到考证网

< 一站式报名学习考试服务平台 >



咨询



报名



关注我们

366 装拆接地线的导线端时，要对()保持足够的安全距离，防止触电。

- A. 构架
- B. 瓷质部分
- C. 带电部分

找到考证网

<一站式报名学习考试服务平台>



咨询



报名



关注我们

**367** 变压器中性线电流不应超过电压绕组额定电流的()。

A. 15%

B. 25%

C. 35%

王牌必选

找到考证网

<一站式报名学习考试服务平台>



咨询



报名



关注我们

368 为了保障人身安全，将电气设备正常情况下不带电的金属外壳接地称为()。

- A. 工作接地 **中性点接地**
- B. ~~保护接地~~
- C. 工作接零



找到考证网

< 一站式报名学习考试服务平台 >



咨询



报名



关注我们

369 变压器中性点接地叫()。

- A. 工作接地
- B. 保护接地
- C. 工作接零

找到考证网

<一站式报名学习考试服务平台>



咨询



报名



关注我们

370 重复接地的接地电阻要求阻值小于() $\Omega$ 。

- A. 0.5
- B. 4
- C. 10

接地电阻  $10\Omega$ 。

防静电  $100\Omega$ 。

找到考证网

< 一站式报名学习考试服务平台 >



咨询



报名



关注我们

371 变压器铭牌上的额定容量是指()。

- A. 有功功率
- B. 无功功率
- C. 视在功率

铭牌上用眼睛看。  
视办 视在功率。

找到考证网

< 一站式报名学习考试服务平台 >



咨询



报名



关注我们

372 互感器的二次绕组必须一端接地，其目的是()。

- A. 防雷
- B. 保护人身及设备的安全
- C. 防鼠

找到考证网

<一站式报名学习考试服务平台>



咨询



报名



关注我们

373 直流放大器的最大特点是()。

- A. 具有极好的低频特性，对上限频率 $f_n$ 以下的各个频率的信号都具有放大作用
- B. 有很好的稳定性
- C. 具有直接耦合的特点

特点对特点

找到考证网

<一站式报名学习考试服务平台>



咨询



报名



关注我们

**374** 要测量**380V**的交流电动机绝缘电阻，应选额定电压为()的绝缘电阻表。

- A. 250V
- B. 500V
- C. 1000V

安全经济原则

找到考证网

< 一站式报名学习考试服务平台 >



咨询



报名



关注我们

**375** 运行中电压互感器二次侧不允许短路，电流互感器二次侧不允许()。

A. 短路

B. 开路

C. 短接

找到考证网

< 一站式报名学习考试服务平台 >



咨询



报名



关注我们

376 带负荷的线路合闸时，断路器和隔离开关操作顺序是先合隔离开关，后合()。

- A. 隔离开关
- B. 断路器
- C. 断开导线



找到考证网

< 一站式报名学习考试服务平台 >



咨询



报名



关注我们

**377** 带负荷的线路拉闸时，先拉断路器后拉()。

- A. 隔离开关
- B. 断路器
- C. 电源导线

找到考证网

<一站式报名学习考试服务平台>



咨询



报名



关注我们

**378** 电力系统电流互感器的二次侧额定电流均()A。

A. 220

B. 380

C. 5

找到考证网

<一站式报名学习考试服务平台>



咨询



报名



关注我们

379 万用表用完后，应将选择开关拨在()档。

A. 电阻

B. 电压

C. 交流电压

最高档或OFF

找到考证网

<一站式报名学习考试服务平台>



咨询



报名



关注我们

**380** 互感器的二次绕组必须一端接地，其目的是()。

- A. 提高测量精度
- B. 确定测量范围
- C. 保证人身安全

找到考证网

< 一站式报名学习考试服务平台 >



咨询



报名



关注我们

**381** 电气工作人员在10kV配电装置附近工作时，其正常活动范围与带电设备的最小安全距离是()。

- A. 0.2m
- B. 0.35m
- C. 0.5m

找到考证网

<一站式报名学习考试服务平台>



咨询



报名



关注我们

**382** 在 $30\Omega$ 电阻的两端加 $60V$ 的电压，则通过该电阻的电流是()。

- A.  $1800A$
- B.  $90A$
- C.  $2A$

$$60 \div 30 = 2$$

找到考证网

<一站式报名学习考试服务平台>



咨询

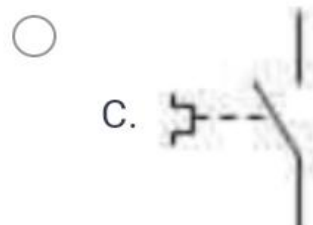
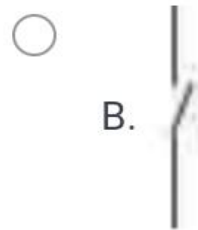
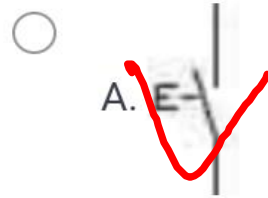


报名



关注我们

383 以下图形,( )是按钮的电气图形



按钮记E.

**找到考证网**

< 一站式报名学习考试服务平台 >



咨询



报名



关注我们

# 判断-专项训练



找到考证网

< 一站式报名学习考试服务平台 >



咨询



报名



关注我们

1 电气控制系统图包括电气原理图和电气安装图。

√ 正确

× 错误

找到考证网

< 一站式报名学习考试服务平台 >



咨询



报名



关注我们

2 水和金属比较，水的导电性能更好。

正确

错误

纯净水不导电

找到考证网

< 一站式报名学习考试服务平台 >



咨询



报名



关注我们

3 据部分省市统计，农村触电事故要少于城市的触电事故。

正确

错误

的

找到考证网

< 一站式报名学习考试服务平台 >



咨询



报名



关注我们

4 漏电开关只有在有人触电时才会动作。

正确

错误

找到考证网

< 一站式报名学习考试服务平台 >



咨询



报名



关注我们

5 欧姆定律指出，在一个闭合电路中，当导体温度不变时，通过导体的电流与加在导体两端的电压成反比，与其电阻成正比。

正确

错误

反比

正比

$$i = \frac{U}{R}$$

找到考证网

< 一站式报名学习考试服务平台 >



咨询



报名



关注我们

6 我国正弦交流电的频率为50Hz。

√ 正确

× 错误

找到考证网

< 一站式报名学习考试服务平台 >



咨询



报名



关注我们

7 TT系统是配电网中性点直接接地，  
用电设备外壳也采用接地措施的系统。

√ 正确

× 错误

什么是纯概念性问题是正确的

找到考证网

< 一站式报名学习考试服务平台 >



咨询



报名



关注我们

8 当采用安全特低电压作直接电机防护时，应选用**25v**及以下的安全电压。

√ 正确

25正确 (口诀)

× 错误



找到考证网

< 一站式报名学习考试服务平台 >



咨询



报名



关注我们

9 载流导体在磁场中一定受到磁场力的作用。

正确

错误

一定.任何.随意.错误.

平行为0

找到考证网

< 一站式报名学习考试服务平台 >



咨询



报名



关注我们

10 单相220V电源供电的电气设备，应选用~~三~~极式漏电保护装置。

正确

错误

单极或二极

找到考证网

< 一站式报名学习考试服务平台 >



咨询



报名



关注我们

**11 接地电阻表主要由手摇发动机、  
电流互感器、电位器以及检流计组成。**

√ 正确 ✓

× 错误

找到考证网

< 一站式报名学习考试服务平台 >



咨询



报名



关注我们

12 在安全色标中用绿色表示安全、通过、允许、工作。



正确



错误

找到考证网

< 一站式报名学习考试服务平台 >



咨询



报名



关注我们

13 电容器的容量就是电容量。跟电压的大小有关

✓ 正确

✗ 错误

↓  
数值是固定值

两者不是一个概念

找到考证网

< 一站式报名学习考试服务平台 >



咨询



报名



关注我们

14 在直流电路中，常用棕色表示正极。



正确



错误

找到考证网

< 一站式报名学习考试服务平台 >



咨询



报名



关注我们

15 从过载角度出发，规定了熔断器的额定电压。

正确

错误

正  
电流

找到考证网

< 一站式报名学习考试服务平台 >



咨询



报名



关注我们

16 安全可靠是对任何开关电器的基本要求。



正确



错误



找到考证网

< 一站式报名学习考试服务平台 >



咨询



报名



关注我们

17 锡焊晶体管等弱电元件应用100W的电烙铁。

正确

25W

错误

找到考证网

< 一站式报名学习考试服务平台 >



咨询



报名



关注我们

**18** 交流电动机铭牌上的频率是此电机使用的交流电源的频率。



正确



错误

找到考证网

< 一站式报名学习考试服务平台 >



咨询



报名



关注我们

19 在串联电路中，电流处处相等。



正确



错误

找到考证网

< 一站式报名学习考试服务平台 >



咨询



报名



关注我们

**20** 触电者神志不清，有心跳，但呼吸停止，应立即进行口对口人工呼吸。



正确



错误

找到考证网

< 一站式报名学习考试服务平台 >



咨询



报名



关注我们

21 并联补偿电容器主要用在直流电路中。

正确

错误

~  
交

找到考证网

< 一站式报名学习考试服务平台 >



咨询



报名



关注我们

22 导线接头位置应尽量在绝缘子固定处，以方便统一扎线。

正确

错误

0.5米以上

找到考证网

< 一站式报名学习考试服务平台 >



咨询



报名



关注我们

23 时间继电器的文字符号为KT。 </p>

正确

错误

符号+字母,除了电源,其它

都是正确的 (口诀)

### 找到考证网

< 一站式报名学习考试服务平台 >



咨询



报名



关注我们

24 同一电器元件的各部件分散地画在原理图中，必须按顺序标注文字符号。

正确

错误

配合起来使用就可以



找到考证网

< 一站式报名学习考试服务平台 >



咨询



报名



关注我们

25 铁壳开关安装时外壳必须可靠接地。



正确

保护接地



错误

### 找到考证网

< 一站式报名学习考试服务平台 >



咨询



报名



关注我们

**26** 接地线是为了在已停电的设备和线路上意外地出现电压时保证工作人员的重要工具。按规定，接地线必须是截面积~~25~~ $\text{mm}^2$ 以上裸铜软线制成。



正确



错误

25 正确

找到考证网

< 一站式报名学习考试服务平台 >



咨询



报名



关注我们

**27** 绝缘棒在闭合或拉开高压隔离开关和跌落式熔断器，装拆携带式接地线，以及进行辅助测量和试验使用。



正确



错误

找到考证网

< 一站式报名学习考试服务平台 >



咨询



报名



关注我们

**28** 额定电压为**380V**的熔断器可用在**220V**的线路中。



正确



错误

找到考证网

< 一站式报名学习考试服务平台 >



咨询



报名



关注我们

29 规定小磁针的北极所指的方向是磁力线的方向。



正确



错误

找到考证网

< 一站式报名学习考试服务平台 >



咨询



报名



关注我们

30 在带电维修线路时，应站在绝缘垫上。



正确



错误

找到考证网

< 一站式报名学习考试服务平台 >



咨询



报名



关注我们

31 低压验电器可以验出500V以下的电压。

正确

错误

100V 以下就验不出来

找到考证网

< 一站式报名学习考试服务平台 >



咨询



报名



关注我们

32 截面积较小的单股导线平接时可采用绞接法。

正确

错误



找到考证网

< 一站式报名学习考试服务平台 >



咨询



报名



关注我们

**33** 黄绿双色的导线只能用于保护线。



正确



错误

### 找到考证网

< 一站式报名学习考试服务平台 >



咨询



报名



关注我们

34 基尔霍夫第一定律是节点电流定律，是用来证明电路上各电流之间关系的定律。



正确



错误

什么是什

找到考证网

< 一站式报名学习考试服务平台 >



咨询



报名



关注我们

35 对电机轴承润滑的检查，可**通电**转动电动机转轴，看是否转动灵活，听有无异声。

正确

错误

用手

找到考证网

< 一站式报名学习考试服务平台 >



咨询



报名



关注我们

**36** 再生发电制动只用于电动机转速高于同步转速的场合。



正确



错误

找到考证网

< 一站式报名学习考试服务平台 >



咨询



报名



关注我们

37 一般情况下，接地电网的单相触电比不接地的电网的危险性小。

正确

错误

大

找到考证网

< 一站式报名学习考试服务平台 >



咨询



报名



关注我们

38 导线接头的抗拉强度必须与原导线的抗拉强度相同。

正确

错误

不小于90%就可以

找到考证网

< 一站式报名学习考试服务平台 >



咨询



报名



关注我们

**39** 钳形电流表可做成既能测交流电流，也能测量直流电流。



正确



错误

找到考证网

< 一站式报名学习考试服务平台 >



咨询



报名



关注我们

40 验电是保证电气作业安全的技术措施之一。

- 正确
- 错误



找到考证网

< 一站式报名学习考试服务平台 >



咨询



报名



关注我们

41 保护接零适用于中性点直接接地的配电系统中。



正确



错误

### 找到考证网

< 一站式报名学习考试服务平台 >



咨询



报名



关注我们

**42** 当电气火灾发生时，如果无法切断电源，就只能带电灭火，并选择干粉或者二氧化碳灭火器，尽量少用水基式灭火器。

正确

错误

不能用水

找到考证网

< 一站式报名学习考试服务平台 >



咨询



报名



关注我们

43 导线连接后接头与绝缘层的距离越小越好。



正确



错误

找到考证网

< 一站式报名学习考试服务平台 >



咨询



报名



关注我们

**44** 在三相交流电路中，负载为三角形接法时，其相电压等于三相电源的线电压。



正确



错误

找到考证网

< 一站式报名学习考试服务平台 >



咨询



报名



关注我们

45 异步电动机的转差率是旋转磁场的转速与电动机转速之差与旋转磁场的转速之比。



正确



错误

什么是什么(口诀)

找到考证网

< 一站式报名学习考试服务平台 >



咨询



报名



关注我们

46 220V的交流电压的最大值为380V。

正确

错误

311V

找到考证网

< 一站式报名学习考试服务平台 >



咨询



报名



关注我们

**47** 漏电断路器在被保护电路中有漏电或有人触电时，零序电流互感器就产生感应电流，经放大使脱扣器动作，从而切断电路。



正确



错误

### 找到考证网

< 一站式报名学习考试服务平台 >



咨询



报名



关注我们

48 在爆炸危险场所，应采用三相~~四~~线制，单相三线制方式供电。

正确

错误

纯单数 没有双数

1335

(口诀)



找到考证网

< 一站式报名学习考试服务平台 >



咨询



报名



关注我们

49 接触器的文字符号为KM。

正确

错误

口诀

找到考证网

< 一站式报名学习考试服务平台 >



咨询



报名



关注我们

50 绝缘材料就是指绝对不导电的材料。

正确

错误

没有绝对不导电的

口诀

找到考证网

< 一站式报名学习考试服务平台 >



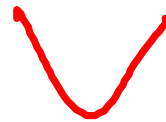
咨询



报名



关注我们



电压不足自动断电

找到考证网

< 一站式报名学习考试服务平台 >



咨询



报名



关注我们

高

工

52 工频电流比高频电流更容易引起皮肤灼伤。



正确



错误

找到考证网

< 一站式报名学习考试服务平台 >



咨询



报名



关注我们

53 电机在正常运行时，如闻到焦臭味，则说明电动机速度过快。

正确

错误

烧, 检查检修

### 找到考证网

< 一站式报名学习考试服务平台 >



咨询



报名



关注我们

**54** (常考题) 用钳表测量电动机空转电流时, 可直接用小电流档一次测量出来。

正确

错误

需要档位变换

找到考证网

< 一站式报名学习考试服务平台 >



咨询



报名



关注我们

55 电压的大小用电压表来测量，测量时将其串联在电路中。

正确

错误

电压并, 电流串  
口诀

找到考证网

<一站式报名学习考试服务平台>



咨询



报名



关注我们

56 断路器在选用时，要求断路器的额定通断能力要大于或等于被保护线路中可能出现的最大负载电流。

不行

正确

错误

故障



找到考证网

< 一站式报名学习考试服务平台 >



咨询



报名



关注我们

57 螺口灯头的台灯应采用三孔插座。

正确

错误

### 找到考证网

< 一站式报名学习考试服务平台 >



咨询



报名



关注我们

断路器

**58** 隔离开关是指承担接通和断开电流任务，将电路与电源隔离。

正确

错误

开关只能切断电源

找到考证网

< 一站式报名学习考试服务平台 >



咨询



报名



关注我们

59 熔断器的文字符号为FU。



正确



错误

口诀

找到考证网

< 一站式报名学习考试服务平台 >



咨询



报名



关注我们

60 ~~交流~~钳形电流表可测量交直流电流。

正确

错误

### 找到考证网

< 一站式报名学习考试服务平台 >



咨询



报名



关注我们

61 为了安全可靠，所有开关均应同时控制相线和零线。

正确

错误

控制相线不控制零线

### 找到考证网

< 一站式报名学习考试服务平台 >



咨询



报名



关注我们

62 对于转子有绕组的电动机，将外电阻串入转子电路中启动，并随电机转速升高而逐渐地将电阻值减小并最终切除，叫转子串电阻启动。

正确

错误

什么叫什么 (口诀)

### 找到考证网

< 一站式报名学习考试服务平台 >



咨询



报名



关注我们

63 能耗制动这种方法是将转子的动能转化为电能，并消耗在转子回路的电阻上。



正确



错误

什么是什(口诀)

找到考证网

< 一站式报名学习考试服务平台 >



咨询



报名



关注我们

64 电工特种作业人员应当具备高中或相当于高中以上文化程度。

正确

错误

初中



找到考证网

< 一站式报名学习考试服务平台 >



咨询



报名



关注我们

65 10kV以下运行的阀型避雷器的绝缘电阻应每年测量一次。

正确

错误 ✓

每半年

### 找到考证网

< 一站式报名学习考试服务平台 >



咨询



报名



关注我们

66 遮栏是防止工作人员无意碰到带电设备部分而装设备的屏护，分临时遮栏和常设遮栏两种。

- 正确
- 错误

什么是什 (口诀)

找到考证网

<一站式报名学习考试服务平台>



咨询



报名



关注我们

**67** 特种作业人员未经专门的安全作业培训，未取得相应资格，上岗作业导致事故的，应追究生产经营单位有关人员的责任。



正确



错误

找到考证网

< 一站式报名学习考试服务平台 >



咨询



报名



关注我们

68 触电分为电击和电伤。

正确

错误

找到考证网

< 一站式报名学习考试服务平台 >



咨询



报名



关注我们

69 30Hz~40Hz的电流危险性最大。

正确

错误

50Hz

找到考证网

< 一站式报名学习考试服务平台 >



咨询



报名



关注我们

70 II类手持电动工具比I类工具安全可靠。



正确



错误

### 找到考证网

< 一站式报名学习考试服务平台 >



咨询



报名



关注我们

**71** 带电的设备，在电机通电前要检查电机的辅助设备  
和安装底座，接地等，正常后再通电使用。



正确

设备检查没毛病



错误

### 找到考证网

< 一站式报名学习考试服务平台 >



咨询



报名



关注我们

72 用电笔验电时，应赤脚站立，保证与大地有良好的接触。

正确

错误



找到考证网

< 一站式报名学习考试服务平台 >



咨询



报名



关注我们

73 机关、学校、企业、住宅等建筑物内的插座回路  
不需要安装漏电保护装置。

正确

错误

必须

找到考证网

< 一站式报名学习考试服务平台 >



咨询



报名



关注我们

74 直流电流表可以用于交流电路测量。

正确

错误

↓  
直

找到考证网

< 一站式报名学习考试服务平台 >



咨询



报名



关注我们

75 电容器放电的方法就是将其两端用导线连接。

正确

错误

灯泡或电阻

找到考证网

< 一站式报名学习考试服务平台 >



咨询



报名



关注我们

**76** 因闻到焦臭味而停止运行的电动机，必须找出原因后才能再通电使用。



正确



错误

### 找到考证网

< 一站式报名学习考试服务平台 >



咨询



报名



关注我们

77 对称的三相电源是由振幅相同、初相依次相差 $120^\circ$ 的正弦电源，连接组成的供电系统。



正确

交流电



错误

找到考证网

< 一站式报名学习考试服务平台 >



咨询



报名



关注我们

**78** 按照通过人体电流的大小，人体反应状态的不同，可将电流划分为感知电流、摆脱电流和室颤电流。



正确



错误

找到考证网

< 一站式报名学习考试服务平台 >



咨询



报名



关注我们

79 低压绝缘材料的耐压等级一般为500V。



正确



错误

找到考证网

< 一站式报名学习考试服务平台 >



咨询



报名



关注我们

**80** 使用电气设备时，由于导线截面选择过小，当电流较大时也会因发热过大而引发火灾。



正确



错误



找到考证网

< 一站式报名学习考试服务平台 >



咨询



报名



关注我们

**81** 电流和磁场密不可分，磁场总是伴随着电流而存在，而电流永远被磁场所包围。

正确

错误

找到考证网

< 一站式报名学习考试服务平台 >



咨询



报名



关注我们

**82** 常用绝缘安全防护用具有绝缘手套、绝缘靴、绝缘隔板、绝缘垫、绝缘站台等。



正确



错误

找到考证网

< 一站式报名学习考试服务平台 >



咨询



报名



关注我们

83 当拉下总开关后，线路即视为无电。

正确

错误

未经验电一律视为有电

找到考证网

< 一站式报名学习考试服务平台 >



咨询



报名



关注我们

84 电度表是专门用来测量设备功率的装置。

正确

错误

电能

找到考证网

< 一站式报名学习考试服务平台 >



咨询



报名



关注我们

**85** 按钮根据使用场合，可选的种类有开启式、防水式、防腐式、保护式等。



正确



错误

找到考证网

< 一站式报名学习考试服务平台 >



咨询



报名



关注我们

86 正弦交流电的周期与角频率的关系互为倒数的。

正确

错误

✓ 倒数错误

找到考证网

< 一站式报名学习考试服务平台 >



咨询



报名



关注我们

87 在高压线路发生火灾时，应采用有相应绝缘等级的绝缘工具，迅速拉~~开~~隔离开关切断电源，选择二氧化碳或者干粉灭火器进行灭火。

正确

错误

切断电源前先用断路器断电流  
高压带电灭火用干粉

### 找到考证网

< 一站式报名学习考试服务平台 >



咨询



报名



关注我们

**88** 用钳表测量电动机空转电流时，不需要档位变换可直接进行测量。

正确

错误

需要档位变换



找到考证网

< 一站式报名学习考试服务平台 >



咨询



报名



关注我们

89 变配电设备应有完善的屏护装置。



正确



错误

### 找到考证网

< 一站式报名学习考试服务平台 >



咨询



报名



关注我们

90 频率的自动调节补偿是热继电器的一个功能。

正确

错误

↓  
温度或过载

:

找到考证网

< 一站式报名学习考试服务平台 >



咨询



报名



关注我们

**91** 在电压低于额定值的一定比例后能自动断电的称为欠压保护。



正确



错误

找到考证网

< 一站式报名学习考试服务平台 >



咨询



报名



关注我们

92 幼儿园及小学等儿童活动场所插座安装高度不宜小于1.8m。



正确

正常 1.3



错误

### 找到考证网

< 一站式报名学习考试服务平台 >



咨询



报名



关注我们

93 摇表在使用前，无须先检查摇表是否完好，可直接对被测设备进行绝缘测量。

正确

错误

设备都需要检查

找到考证网

< 一站式报名学习考试服务平台 >



咨询



报名



关注我们

94 电工作业分为高压电工和低压电工。

正确

错误

防爆

找到考证网

< 一站式报名学习考试服务平台 >



咨询



报名



关注我们

**95** 用星-三角降压启动时，启动转矩为直接采用三角形联结时启动转矩的 $\frac{1}{3}$ 。



正确



错误

找到考证网

< 一站式报名学习考试服务平台 >



咨询



报名



关注我们

96 使用万用表电阻档能够测量变压器的线圈电阻。

✓ 正确

检测电容器

电桥

✗ 错误



找到考证网

< 一站式报名学习考试服务平台 >



咨询



报名



关注我们

97 在串联电路中，电路总电压等于各电阻的分电压之和。



正确



错误

找到考证网

< 一站式报名学习考试服务平台 >



咨询



报名



关注我们

98 三相电动机的转子和定子要同时通电才能工作。

✓ 正确

✗ 错误

定子通电机转子不通电

口诀

找到考证网

< 一站式报名学习考试服务平台 >



咨询



报名



关注我们

99 电工刀的手柄是无绝缘保护的，不能在带电导线或器材上剖切，以免触电。



正确



错误

### 找到考证网

< 一站式报名学习考试服务平台 >



咨询



报名



关注我们

**100** 在断电之后，电动机停转，当电网再次来电，电动机能自行起动的运行方式称为失压保护。

✓ 正确

✗ 错误

✓ 不能自起动的才叫失压保护

找到考证网

< 一站式报名学习考试服务平台 >



咨询



报名



关注我们

**101** 对于容易产生静电的场所，应保持地面潮湿，或者铺设导电性能较好的地板。



正确



错误

找到考证网

< 一站式报名学习考试服务平台 >



咨询



报名



关注我们

**102** 电机异常发响发热的同时，转速急速下降，应立即切断电源，停机检查。



正确



错误

找到考证网

< 一站式报名学习考试服务平台 >



咨询



报名



关注我们

103 中间继电器的动作值与释放值可调节。

正确

错误

不可以调节

找到考证网

< 一站式报名学习考试服务平台 >



咨询



报名



关注我们

**104** 电动机按铭牌数值工作时，短时运行的定额工作制用S2表示。

正确

错误



找到考证网

< 一站式报名学习考试服务平台 >



咨询



报名



关注我们

**105** 止步，高压危险的标志牌的式样是白底、红边，有红色箭头。



正确



错误

找到考证网

< 一站式报名学习考试服务平台 >



咨询



报名



关注我们

**106** 在没有用验电器验电前，线路应视为有电。



正确



错误

找到考证网

< 一站式报名学习考试服务平台 >



咨询



报名



关注我们

107 二极管只要工作在反向击穿区，一定会被击穿。

正确

错误

一定.任何随意错误  
口诀

找到考证网

< 一站式报名学习考试服务平台 >



咨询



报名



关注我们

**108** 过载是指线路中的电流大于线路的计算电流或允许载流量。



正确



错误

找到考证网

< 一站式报名学习考试服务平台 >



咨询



报名



关注我们

109 特种作业操作证每1年由考核发证部门复审一次。

正确

错误

3年复审

找到考证网

< 一站式报名学习考试服务平台 >



咨询



报名



关注我们

**110** 白炽灯属热辐射光源。

正确

错误

找到考证网

< 一站式报名学习考试服务平台 >



咨询



报名



关注我们

**111** 当电容器测量时万用表指针摆动后停止不动，说明电容器短路。



正确



错误

找到考证网

< 一站式报名学习考试服务平台 >



咨询



报名



关注我们

**112** 组合开关在选作直接控制电机时，要求其额定电流可取电动机额定电流的**2~3**倍。

- 正确
- 错误



找到考证网

< 一站式报名学习考试服务平台 >



咨询



报名



关注我们

**113** 验电器在使用前必须确认验电器良好。



正确



错误

找到考证网

< 一站式报名学习考试服务平台 >



咨询



报名



关注我们

**114** 电气安装接线图中，同一电器元件的各部分必须画在一起。

正确

错误

找到考证网

< 一站式报名学习考试服务平台 >



咨询



报名



关注我们

115 两相触电危险性比单相触电小。

大

正确

错误

找到考证网

< 一站式报名学习考试服务平台 >



咨询



报名



关注我们

**116** 交流电每交变一周所需的时间叫做周期 $T$ 。



正确



错误

找到考证网

< 一站式报名学习考试服务平台 >



咨询



报名



关注我们

**117** 防雷装置应沿建筑物的外墙敷设，并经最短途径接地，如有特殊要求可以暗设。



正确



错误

找到考证网

< 一站式报名学习考试服务平台 >



咨询



报名



关注我们

118 当电容器爆炸时，应立即检查。

正确

错误

防二次爆炸

找到考证网

< 一站式报名学习考试服务平台 >



咨询



报名



关注我们

119 危险场所室内的吊灯与地面距离不少于3m。

正确

错误

↓  
2.5m

吊灯与桌子是不少于0.5m

找到考证网

< 一站式报名学习考试服务平台 >



咨询



报名



关注我们

**120** 挂登高板时，应钩口向外并且向上。



正确



错误



找到考证网

< 一站式报名学习考试服务平台 >



咨询



报名



关注我们

**121** 使用兆欧表前不必切断被测设备的电源。

正确

错误

必须断电源

找到考证网

< 一站式报名学习考试服务平台 >



咨询



报名



关注我们

122 按钮的文字符号为SB。

正确

错误

口诀

找到考证网

< 一站式报名学习考试服务平台 >



咨询



报名



关注我们

**123** RCD的选择，必须考虑用电设备和电路正常泄漏电流的影响。



正确



错误

RCD是剩余漏电动作保护器。

找到考证网

< 一站式报名学习考试服务平台 >



咨询



报名



关注我们

124 当灯具达不到最小高度时，应采用24V以下电压。

正确

错误

36V 安全特低电压

24V 潮湿场所

12V 窄器内或特别潮湿

找到考证网

< 一站式报名学习考试服务平台 >



咨询



报名



关注我们

125 测量电流时应把电流表串联在被测电路中。

- 正确
- 错误

找到考证网

< 一站式报名学习考试服务平台 >



咨询



报名



关注我们

**126** 旋转电器设备着火时不宜用干粉灭火器灭火。

- 正确
- 错误

找到考证网

< 一站式报名学习考试服务平台 >



咨询



报名



关注我们

**127** 电工应严格按照操作规程进行作业。



正确



错误

找到考证网

< 一站式报名学习考试服务平台 >



咨询



报名



关注我们

128 导线的工作电压应大于其额定电压。

小于等于

正确

错误



找到考证网

< 一站式报名学习考试服务平台 >



咨询



报名



关注我们

129 补偿电容器的容量越大越好。

正确

错误

适合就好

找到考证网

< 一站式报名学习考试服务平台 >



咨询



报名



关注我们

130 交流接触器的额定电流，是在额定的工作条件下所决定的电流值。



正确



错误

什么是什么

口诀

找到考证网

< 一站式报名学习考试服务平台 >



咨询



报名



关注我们

131 分断电流能力是各类刀开关的主要技术参数之一。

正确

错误

什么是什

口诀

找到考证网

< 一站式报名学习考试服务平台 >



咨询



报名



关注我们

**132** 电工应做好用电人员在特殊场所作业的监护作业。



正确



错误

找到考证网

< 一站式报名学习考试服务平台 >



咨询



报名



关注我们

**133** 对电机各绕组的绝缘检查，如测出绝缘电阻不合格，不允许通电运行。

- 正确
- 错误

找到考证网

< 一站式报名学习考试服务平台 >



咨询



报名



关注我们

134 通用继电器是可以更换不同性质的线圈，从而将其制成各种继电器。

正确

错误

什么是通用 (口诀)

找到考证网

< 一站式报名学习考试服务平台 >



咨询



报名



关注我们

135 热继电器的保护特性在保护电机时，应尽可能与电动机过载特性贴近。

正确

错误

### 找到考证网

< 一站式报名学习考试服务平台 >



咨询



报名



关注我们

136 无论在任何情况下，三极管都具有电流放大功能。

正确

错误

任何/错误,只有在放大的情况下才可以  
(口诀)



找到考证网

< 一站式报名学习考试服务平台 >



咨询



报名



关注我们

**137** 改革开放前我国强调以铝代铜作导线，以减轻导线的重量。

正确

错误

产量跟不上

找到考证网

< 一站式报名学习考试服务平台 >



咨询



报名



关注我们

**138** 一号电工刀比二号电工刀的刀柄长度长。



正确



错误

找到考证网

< 一站式报名学习考试服务平台 >



咨询



报名



关注我们

**139** 试验对地电压为**50V**以上的带电设备时，氖泡式低压验电器就应显示有电。

正确

错误

电晕氖泡式低压验电器70V.

找到考证网

< 一站式报名学习考试服务平台 >



咨询



报名



关注我们

**140** 吊灯安装在桌子上方时，与桌子的垂直距离不少于1.5m。

正确

错误

吊灯与桌子不小于0.5m.

与地面不小于2.5m.

找到考证网

< 一站式报名学习考试服务平台 >



咨询



报名



关注我们

141 几个电阻并联后的总电阻等于各并联电阻的倒  
数之和。

倒数

正确

错误

倒数错误.

找到考证网

< 一站式报名学习考试服务平台 >



咨询



报名



关注我们

**142** 电气设备缺陷，设计不合理，安装不当等都是引发火灾的重要原因。



正确



错误

找到考证网

< 一站式报名学习考试服务平台 >



咨询



报名



关注我们

**143** 使用万用表测量电阻，每换一次欧姆档都要进行欧姆调零。



正确



错误

找到考证网

< 一站式报名学习考试服务平台 >



咨询



报名



关注我们

144 电容器室内应有良好的通风。



正确



错误



找到考证网

< 一站式报名学习考试服务平台 >



咨询



报名



关注我们

145 用避雷针、避雷带是防止雷电破坏电力设备的主要措施。

正确

错误

避雷器

找到考证网

< 一站式报名学习考试服务平台 >



咨询



报名



关注我们

146 目前我国生产的接触器额定电流一般大于或等于630A。

小于

正确

错误

### 找到考证网

< 一站式报名学习考试服务平台 >



咨询



报名



关注我们

147 使用改变磁极对数来调速的电机一般都是绕线型转子电动机。

正确

错误

改变磁极是鼠笼

找到考证网

< 一站式报名学习考试服务平台 >



咨询



报名



关注我们

**148** 特种作业人员必须年满**20**周岁，且不超过国家法定退休年龄。

正确

错误

18-60周岁

找到考证网

< 一站式报名学习考试服务平台 >



咨询



报名



关注我们

149 熔体的额定电流不可大于熔断器的额定电流。



正确



错误

### 找到考证网

< 一站式报名学习考试服务平台 >



咨询



报名



关注我们

**150** 在电气原理图中，当触点图形垂直放置时，以左开右闭原则绘制。



正确



错误

找到考证网

< 一站式报名学习考试服务平台 >



咨询



报名



关注我们

151 SELV只作为接地系统的电击保护。

正确

错误

SELV: 安全特低电压.  
不接地

找到考证网

< 一站式报名学习考试服务平台 >



咨询



报名



关注我们

**152** 使用脚扣进行登杆作业时，上、下杆的每一步必须使脚扣环完全套入并可靠地扣住电杆，才能移动身体，否则会造成事故。



正确



错误



找到考证网

< 一站式报名学习考试服务平台 >



咨询



报名



关注我们

**153** 企业、事业单位的职工无特种作业操作证从事特种作业，属违章作业。



正确



错误

找到考证网

< 一站式报名学习考试服务平台 >



咨询



报名



关注我们

**154** 概率为50%时，成年男性的平均感知电流值约为1.1mA，最小为0.5mA，成年女性约为0.6mA。

正确

错误

0.7

找到考证网

< 一站式报名学习考试服务平台 >



咨询



报名



关注我们

**155** 日光灯点亮后，镇流器起降压限流作用。



正确



错误

找到考证网

< 一站式报名学习考试服务平台 >



咨询



报名



关注我们

**156** 如果电容器运行时，检查发现温度过高，应加强通风。

正确

错误

检查检修

找到考证网

< 一站式报名学习考试服务平台 >



咨询



报名



关注我们

**157** 电气原理图中的所有元件均按未通电状态或无外力作用时的状态画出。



正确



错误

找到考证网

< 一站式报名学习考试服务平台 >



咨询



报名



关注我们

**158** 在我国，超高压送电线路基本上是架空敷设。

正确

错误

找到考证网

< 一站式报名学习考试服务平台 >



咨询



报名



关注我们

159 使用竹梯作业时，梯子放置与地面以50°左右为宜。

60°

正确

错误

找到考证网

< 一站式报名学习考试服务平台 >



咨询



报名



关注我们

160 电容器的放电负载不能装设熔断器或开关。



正确



错误



找到考证网

< 一站式报名学习考试服务平台 >



咨询



报名



关注我们

**161** 测量电机的对地绝缘电阻和相间绝缘电阻，常使用兆欧表，而不宜使用万用表。</p>

正确

错误

不能  
用万用表

找到考证网

< 一站式报名学习考试服务平台 >



咨询



报名



关注我们

162 电解电容器的电工符号如图所示。



正确



错误

找到考证网

< 一站式报名学习考试服务平台 >



咨询



报名



关注我们

163 刀开关在作隔离开关选用时，要求刀开关的额定电流要大于或等于线路实际的故障电流。

正确

错误

工作

找到考证网

< 一站式报名学习考试服务平台 >



咨询



报名



关注我们

**164** 电动式时间继电器的延时时间不受电源电压波动及环境温度变化的影响。

- 正确
- 错误

找到考证网

< 一站式报名学习考试服务平台 >



咨询



报名



关注我们

165 摇测大容量设备吸收比是测量(60秒)时的绝缘电阻与(15秒)时的绝缘电阻之比。



正确



错误

他是什么

找到考证网

< 一站式报名学习考试服务平台 >



咨询



报名



关注我们

166 电容器室内要有良好的天然采光。

正确

错误

正  
通风

### 找到考证网

< 一站式报名学习考试服务平台 >



咨询



报名



关注我们

**167** 测量交流电路的有功电能时，因是交流电，故其电压线圈、电流线圈和各两个端可任意接在线路上。

正确

错误

任意错误。

电压并电流串 (口诀)

找到考证网

< 一站式报名学习考试服务平台 >



咨询



报名



关注我们

**168** 电力线路敷设时严禁采用突然剪断导线的办法松线。



正确



错误



找到考证网

< 一站式报名学习考试服务平台 >



咨询



报名



关注我们

**169** 右手定则是判定直导体做切割磁力线运动时所产生的感生电流方向。



正确



错误

右手电流  
左手受力

找到考证网

< 一站式报名学习考试服务平台 >



咨询



报名



关注我们

**170** 雷雨天气，即使在室内也不要修理家中的电气线路、开关、插座等。如果一定要修要把家中电源总开关拉开。

正确

错误

总开关拉开也不能修

找到考证网

< 一站式报名学习考试服务平台 >



咨询



报名



关注我们

171 电流的大小用**电流表**来测量，测量时将其**并联**在电路中。

正确

错误

电流串,电压并

找到考证网

< 一站式报名学习考试服务平台 >



咨询



报名



关注我们

172 电缆保护层的作用是保护电缆。

正确

错误

口诀

找到考证网

< 一站式报名学习考试服务平台 >



咨询



报名



关注我们

173 RCD的额定动作电流是指能使RCD动作的最大~~额定~~电流。

正确

错误

RCD: 剩余漏电动作保护器

找到考证网

< 一站式报名学习考试服务平台 >



咨询



报名



关注我们

174 绝缘老化只是一种化学变化。

正确

错误

还有物理变化

### 找到考证网

< 一站式报名学习考试服务平台 >



咨询



报名



关注我们

175 自动切换电器是依靠本身参数的变化或外来讯号而自动进行工作的。

- 正确
- 错误

什么是什么 (口诀)

找到考证网

< 一站式报名学习考试服务平台 >



咨询



报名



关注我们

176 交流发电机是应用电磁感应的原理发电的。



正确



错误

什么是什么 (口诀)



找到考证网

< 一站式报名学习考试服务平台 >



咨询



报名



关注我们

177 相同条件下，交流电比直流电对人体危害较大。



正确



错误

直流更稳定

找到考证网

< 一站式报名学习考试服务平台 >



咨询



报名



关注我们

**178** 从业人员有权拒绝违章作业指挥和强令冒险作业。



正确



错误

找到考证网

< 一站式报名学习考试服务平台 >



咨询



报名



关注我们

**179** 配电支路送电时立即跳闸，应查清原因后再试送，以免扩大事故。



正确



错误

### 找到考证网

< 一站式报名学习考试服务平台 >



咨询



报名



关注我们

**180** 在实际交流电路中，电动机、日光灯、白炽灯及接触器属于感性负载。

正确

错误

阻性负载

找到考证网

< 一站式报名学习考试服务平台 >



咨询



报名



关注我们

**181** 防雷装置的外观检查主要包括:检查接闪器、引下线等各部分的连接是否牢固可靠,检查各部分的腐蚀和锈蚀情况。

正确

错误

设备检查没毛病

找到考证网

< 一站式报名学习考试服务平台 >



咨询



报名



关注我们

**182** 单相二孔插座的接线规定是:面对插座的左孔或下孔接中性线;右孔或上孔接相线。



正确

左零右火



错误

找到考证网

< 一站式报名学习考试服务平台 >



咨询



报名



关注我们

183 对触电者进行心肺复苏术时，触电者必须处于复苏体位。



正确



错误

-- 对应，前后对应

找到考证网

< 一站式报名学习考试服务平台 >



咨询



报名



关注我们

184 直接接触触电的防护技术措施主要有绝缘、屏  
护、间距及接地或接零等。

✓ 正确

✗ 错误

接零没有直接接触触电



找到考证网

< 一站式报名学习考试服务平台 >



咨询



报名



关注我们

**185** 电气设备在正常情况下，将不带电的金属外壳或构架等，用导线与电源零线紧密连接，且零线应重复接地，所以这种接法叫保护接地。

正确

错误

↓  
接零

找到考证网

< 一站式报名学习考试服务平台 >



咨询



报名



关注我们

186 互感是电磁感应现象的一种特殊形式。变压器、互感器就是利用互感原理而工作的电气

正确

错误

什么是互感 (口诀)

### 找到考证网

< 一站式报名学习考试服务平台 >



咨询



报名



关注我们

**187** 电工安全用具每次使用前，必须认真检查 如绝缘手套应检查有无划痕、裂纹、气泡等。



正确



错误

设备检查没毛病

找到考证网

< 一站式报名学习考试服务平台 >



咨询



报名



关注我们

**188** 带电作业时，严禁使用金属的直梯和折梯。



正确



错误

找到考证网

< 一站式报名学习考试服务平台 >



咨询



报名



关注我们

189 双重绝缘是指电气设备可以采用除基本绝缘层之外另加一层独立的附加绝缘，共同组合的电气设备



正确

什么是什



错误

找到考证网

< 一站式报名学习考试服务平台 >



咨询



报名



关注我们

190 静电的最大危害是可能造成爆炸和火灾。



正确

口诀



错误

找到考证网

< 一站式报名学习考试服务平台 >



咨询



报名



关注我们

191 载流导体在磁场中的受力方向可用右手定则来判定。

正确

错误 ✓

右手电流  
左手受力

找到考证网

< 一站式报名学习考试服务平台 >



咨询



报名



关注我们

**192** 从业人员在作业过程中，应当正确佩戴和使用劳动防护用品。



正确



错误



找到考证网

< 一站式报名学习考试服务平台 >



咨询



报名



关注我们

**193** 体外人工心脏按压法是通过有节律地对胸廓进行挤压，间接地压迫心脏，用人工的方法代替心脏自然收缩，从而维持血液循环。



正确



错误

什么是

找到考证网

< 一站式报名学习考试服务平台 >



咨询



报名



关注我们

**194** 熔断器主要用作短路保护，在没有冲击负荷时，可兼作过载保护使用。

正确

错误

找到考证网

< 一站式报名学习考试服务平台 >



咨询



报名



关注我们

**195** 导体在磁场中作切割磁力线运动时，产生感应电动势可用右手定则来判定。

正确

右手电流

错误

找到考证网

< 一站式报名学习考试服务平台 >



咨询



报名



关注我们

**196** 重复接地的设置与保护接地的设置基本相同，  
由接地体和接地线组成。



正确



错误

找到考证网

< 一站式报名学习考试服务平台 >



咨询



报名



关注我们

**197** 三相对称负载无论作星形或三角形连接，其三相有功功率的计算公式是相同的，即 $P=3ULIL\cos\varphi$

正确

错误

接法不同，公式也不同

找到考证网

< 一站式报名学习考试服务平台 >



咨询



报名



关注我们

**198** 在带电的作业过程中，如遇突然停电，作业人员应视设备或线路仍然有电。



正确



错误

找到考证网

< 一站式报名学习考试服务平台 >



咨询



报名



关注我们

199 低压配电装置的巡视检查周期一般应每班一次;  
无人值班至少应每月一次。

正确

错误

每周

找到考证网

< 一站式报名学习考试服务平台 >



咨询



报名



关注我们

**200** 凡因绝缘损坏而有可能带有危险电压的电气设备或电气装置的金属外壳和框架，均应可靠地接地或接零。

正确

错误



找到考证网

< 一站式报名学习考试服务平台 >



咨询



报名



关注我们

**201** 直接雷具有很大的破坏力，其破坏作用有电作用的破坏，热作用的破坏及机械作用的破坏。



正确



错误

### 找到考证网

< 一站式报名学习考试服务平台 >



咨询



报名



关注我们

202 对绕线型异步电机应经常检查电刷与集电环的接触及电刷的磨损，压力，火花等情况。



正确



错误

设备检查没毛病

找到考证网

< 一站式报名学习考试服务平台 >



咨询



报名



关注我们

203 手持电动工具有两种分类方式，即按工作电压分类和按防潮程度分类。

三类

正确

错误

二类用于狭窄空间

找到考证网

< 一站式报名学习考试服务平台 >




咨询



报名



关注我们



磁通不变

找到考证网

< 一站式报名学习考试服务平台 >



咨询



报名



关注我们

**205** 变压器在空载时，其电流的有功分量较小，而无功分量较大，因此空载运行的变压器，其功率因数很低。



正确



错误

找到考证网

< 一站式报名学习考试服务平台 >



咨询



报名



关注我们

206 带有额定负载转矩的三相异步电动机，若使电源电压低于额定电压，则其电流就会低于额定电流。

正确

错误

电动机启动电流大是额定电流的4-7倍。

找到考证网

< 一站式报名学习考试服务平台 >



咨询



报名



关注我们

**207** 油浸式变压器防爆管上的薄膜若因被外力损坏而被裂，则必须使变压器停电修理。

正确

错误 ✓

不需要停电

### 找到考证网

< 一站式报名学习考试服务平台 >



咨询



报名



关注我们

**208** 单相异步电动机的体积虽然较同容量的三相异步电动机大，但功率因数、效率和过载能力都比同容量的三相异步电动机低。



正确



错误



找到考证网

< 一站式报名学习考试服务平台 >



咨询



报名



关注我们

209 配电装置包括测量电器，故便携~~式~~电压表和电流表属于配电装置。

正确

错误

### 找到考证网

< 一站式报名学习考试服务平台 >



咨询



报名



关注我们

210 高压断路器的“跳跃”是指断路器合上又跳开，跳开又合上的现象。

正确

错误

什么是跳跃

找到考证网

< 一站式报名学习考试服务平台 >



咨询



报名



关注我们

**211** 大容量高压隔离开关的每极上都装有两片刀片，其目的是增大导电截面积，从而增大容量。

正确

错误

刀片目的是固定触头减小事故发生。

找到考证网

< 一站式报名学习考试服务平台 >



咨询



报名



关注我们

**212** 低压空气断路器同时装有分励脱扣器和失压脱扣器时，称为复式脱扣装置。

正确

错误

热和电磁脱扣器

找到考证网

< 一站式报名学习考试服务平台 >



咨询



报名



关注我们

**213** 装设电抗器的目的是：增大短路阻抗，限制短路电流，减小电压波动。



正确



错误

找到考证网

< 一站式报名学习考试服务平台 >



咨询



报名



关注我们

**214** 电磁式交流接触器和直流接触器都装有短路环，以消除铁心的振动和噪音。

正确

错误

✓ 直流没有短路环.

找到考证网

< 一站式报名学习考试服务平台 >



咨询



报名



关注我们

**215** 对于开关频繁的场所应采用白炽灯照明。



正确



错误

找到考证网

< 一站式报名学习考试服务平台 >



咨询



报名



关注我们

216 电机运行时发出沉闷声是电机在正常运行的声音。

正确

错误

均匀才是正常的声音。



找到考证网

< 一站式报名学习考试服务平台 >



咨询



报名



关注我们

**217** 改变转子电阻调速这种方法只适用于绕线式异步电动机。



正确



错误

找到考证网

< 一站式报名学习考试服务平台 >



咨询



报名



关注我们

**218** 行程开关的作用是将机械行走的长度用电信号  
传出。

正确

错误

↓  
极限位置

找到考证网

< 一站式报名学习考试服务平台 >



咨询



报名



关注我们

219 吸收比是用兆欧表测定。



正确



错误

吸收比是绝缘电阻之比

找到考证网

< 一站式报名学习考试服务平台 >



咨询



报名



关注我们

220 根据用电性质，电力线路可分为动力线路和配  
电线路。

送电

正确

错误

找到考证网

< 一站式报名学习考试服务平台 >



咨询



报名



关注我们

**221** 并联电容器所接的线停电后，必须断开电容器组。



正确



错误

找到考证网

< 一站式报名学习考试服务平台 >



咨询



报名



关注我们

**222** 剩余电流动作保护装置主要用于1000V以下的  
低压系统。



正确



错误

找到考证网

< 一站式报名学习考试服务平台 >



咨询



报名



关注我们

223 雷电按其传播方式可分为直击雷和感应雷两种。

正确

错误

球形雷

找到考证网

< 一站式报名学习考试服务平台 >



咨询



报名



关注我们

224 检查电容器时，只要检查电压是否符合要求即可。

正确

错误

容量绝缘性都需要检查。



找到考证网

< 一站式报名学习考试服务平台 >



咨询



报名



关注我们

225 触电事故是由电能以电流形式作用人体造成的事故。

正确

错误

口诀

找到考证网

< 一站式报名学习考试服务平台 >



咨询



报名



关注我们

**226** 移动电气设备可以参考手持电动工具的有关要求进行使用。



正确



错误

找到考证网

< 一站式报名学习考试服务平台 >



咨询



报名



关注我们

227 断路器可分为框架式和塑料外壳式。



正确



错误

找到考证网

< 一站式报名学习考试服务平台 >



咨询



报名



关注我们

**228** 导电性能介于导体和绝缘体之间的物体称为半导体。。



正确



错误

找到考证网

< 一站式报名学习考试服务平台 >



咨询



报名



关注我们

229 万用表在测量电阻时，指针指在刻度盘中间最准确。



正确



错误

找到考证网

< 一站式报名学习考试服务平台 >



咨询



报名



关注我们

230 热继电器的双金属片是由一种热膨胀系数不同的金属材料辗压而成。

两种

正确

错误

找到考证网

< 一站式报名学习考试服务平台 >



咨询



报名



关注我们

**231 二氧化碳灭火器带电灭火只适用于600v以下的线路，如果是10kv或者35kv线路，如果带电灭火只能选择干粉灭火器。**

√ 正确

× 错误

找到考证网

< 一站式报名学习考试服务平台 >



咨询



报名



关注我们

232 取得高级电工证的人员就可以从事电工作业。

正确

错误

要有操作证。



### 找到考证网

< 一站式报名学习考试服务平台 >



咨询



报名



关注我们

**233** 《中华人民共和国安全生产法》第二十七条规定:生产经营单位的特种作业人员必须按照国家有关规定经专门的安全作业培训,取得相应资格,方可上岗作业。



正确



错误

找到考证网

< 一站式报名学习考试服务平台 >



咨询



报名



关注我们

234 转子串频敏变阻器启动的转矩大，适合重载启动。

轻载

正确

错误

找到考证网

< 一站式报名学习考试服务平台 >



咨询



报名



关注我们

**235** 对于异步电动机，国家标准规定**3kW**以下的电动机均采用三角形联结。

正确

错误

星形

3星4角 (口诀)

找到考证网

< 一站式报名学习考试服务平台 >



咨询



报名



关注我们

236 剥线钳是用来剥削小导线头部表面绝缘层的专用工具。



正确



错误

什么是什

找到考证网

< 一站式报名学习考试服务平台 >



咨询



报名



关注我们

**237** 为了防止电气火花，电弧等引燃爆炸物，应选用防爆电气级别和温度组别与环境相适应的防爆电气设备。



正确



错误

### 找到考证网

< 一站式报名学习考试服务平台 >



咨询



报名



关注我们

**238** 电动势的正方向规定为从低电位指向高电位，所以测量时电压表应正极接电源负极、而电压表负极接电源的正极。

正确

错误

电压表接反了。

### 找到考证网

< 一站式报名学习考试服务平台 >



咨询



报名



关注我们

**239** 为了避免静电火花造成爆炸事故，凡在加工运输，储存等各种易燃液体、气体时，设备都要分别隔离。

正确

错误

↓  
物理隔离

找到考证网

< 一站式报名学习考试服务平台 >



咨询



报名



关注我们

**240** 雷电可通过其它带电体或直接对人体放电，使人的身体遭到巨大的破坏直至死亡。



正确



错误



找到考证网

< 一站式报名学习考试服务平台 >



咨询



报名



关注我们

**241** 三相异步电动机的转子导体中会形成电流，其电流方向可用右手定则判定。



正确

右手电流



错误

找到考证网

< 一站式报名学习考试服务平台 >



咨询



报名



关注我们

242 符号“A”表示交流电源。

正确

错误

↓  
电流

找到考证网

< 一站式报名学习考试服务平台 >



咨询



报名



关注我们

243 II类设备和III类设备都要采取接地或接零措施。

正确

错误

II类不需要

找到考证网

< 一站式报名学习考试服务平台 >



咨询



报名



关注我们

**244** 当导体温度不变时，通过导体的电流与导体两端的电压成正比，与其电阻成反比。



正确



错误

找到考证网

< 一站式报名学习考试服务平台 >



咨询



报名



关注我们

**245** 漏电开关跳闸后，允许采用分路停电再送电的方式检查线路。



正确



错误

找到考证网

< 一站式报名学习考试服务平台 >



咨询



报名



关注我们

246 手持式电动工具接线可以随意加长。

✓ 正确

✗ 错误 ✓

随意错误。(口诀)  
不可以加长。

找到考证网

< 一站式报名学习考试服务平台 >



咨询



报名



关注我们

**247** 雷电时，应禁止在屋外高空检修、试验和屋内验电等作业。



正确



错误

找到考证网

< 一站式报名学习考试服务平台 >



咨询



报名



关注我们

249 可以用相线碰地线的方法检查地线是否接地良好。

正确

错误

危险



找到考证网

< 一站式报名学习考试服务平台 >



咨询



报名



关注我们

**250** 对于在易燃、易爆、易灼烧及有静电发生的场所作业的工作人员，不可以发放和使用化纤防护用品。



正确



错误

### 找到考证网

< 一站式报名学习考试服务平台 >



咨询



报名



关注我们

**251** 电机在检修后，经各项检查合格后，就可对电机进行空载试验和短路试验。



正确

设备检查没毛病



错误

找到考证网

< 一站式报名学习考试服务平台 >



咨询



报名



关注我们

**252** 交流电流表和电压表测量所测得的值都是有效值。



正确

交流有效



错误

直流平均

找到考证网

< 一站式报名学习考试服务平台 >



咨询



报名



关注我们

**253** 民用住宅严禁装设床头开关。



正确



错误

找到考证网

< 一站式报名学习考试服务平台 >



咨询



报名



关注我们

**254** 导线连接时必须注意做好防腐措施。



正确



错误

找到考证网

< 一站式报名学习考试服务平台 >



咨询



报名



关注我们

255 并联电路中各支路上的电流不一定相等。



正确

并联分流, 电压相等



错误

找到考证网

< 一站式报名学习考试服务平台 >



咨询



报名



关注我们

256 电流表的内阻越小越好。



正确



错误

压大流小 (口诀)

找到考证网

< 一站式报名学习考试服务平台 >



咨询



报名



关注我们

257 铜线与铝线在需要时可以直接连接。

正确

错误

不可以容易氧化。



找到考证网

< 一站式报名学习考试服务平台 >



咨询



报名



关注我们

258 III类电动工具的工作电压不超过50V。



正确



错误

找到考证网

< 一站式报名学习考试服务平台 >



咨询



报名



关注我们

**259** 为保证零线安全，三相四线的零线必须加装熔断器。

正确

错误

不可以装

找到考证网

< 一站式报名学习考试服务平台 >



咨询



报名



关注我们

260 为了安全，高压线路通常采用绝缘导线。

正确

错误

架空

找到考证网

< 一站式报名学习考试服务平台 >



咨询



报名



关注我们

**261** 为改善电动机的启动及运行性能，笼形异步电动机转子铁芯一般采用直槽结构。

正确

错误

↓  
斜槽

找到考证网

< 一站式报名学习考试服务平台 >



咨询



报名



关注我们

262 移动电气设备电源应采用高强度铜芯橡皮护套

硬绝缘电缆。

硬 → 软



正确



错误 ✓

找到考证网

< 一站式报名学习考试服务平台 >



咨询



报名



关注我们

263 磁力线 是 一种闭合曲线。

正确

错误

什么是磁力线

找到考证网

< 一站式报名学习考试服务平台 >



咨询



报名



关注我们

264 电压表内阻越大越好。



正确



错误

压大流小

找到考证网

< 一站式报名学习考试服务平台 >



咨询



报名



关注我们

265 用电笔检查时，电笔发光就说明线路一定有电。

正确

错误

感应电也会使电笔发光



找到考证网

< 一站式报名学习考试服务平台 >



咨询



报名



关注我们

**266** 停电作业安全措施按保安作用依据安全措施分为预见性措施和防护措施。



正确



错误

找到考证网

< 一站式报名学习考试服务平台 >



咨询



报名



关注我们

267 多用螺钉旋具的规格是以它的全长(手柄加旋杆)表示。



正确



错误

找到考证网

< 一站式报名学习考试服务平台 >



咨询



报名



关注我们

268 在三相交流电路中，负载为星形接法时，其相电压等于三相电源的线电压。

正确

错误

角形

找到考证网

< 一站式报名学习考试服务平台 >



咨询



报名



关注我们

**269** 在高压操作中，无遮拦作业人体或其所携带工具与带电体之间的距离应不少于**0.7m**。



正确



错误

找到考证网

< 一站式报名学习考试服务平台 >



咨询



报名



关注我们

270 剩余动作电流小于或等于0.3A的RCD属于高灵敏度RCD。

↓

0.03A

正确

错误

找到考证网

< 一站式报名学习考试服务平台 >



咨询



报名



关注我们

271 交流接触器常见的额定最高工作电压达到  
6000V。



正确



错误

1140V

找到考证网

< 一站式报名学习考试服务平台 >



咨询



报名



关注我们

**272** 路灯的各回路应有保护，每一灯具宜设单独熔断器。



正确



错误

找到考证网

< 一站式报名学习考试服务平台 >



咨询



报名



关注我们

273 事故照明不允许和其它照明共用同一线路。



正确



错误



找到考证网

< 一站式报名学习考试服务平台 >



咨询



报名



关注我们

274 有美尼尔氏征的人不得从事电工作业。



正确



错误

找到考证网

< 一站式报名学习考试服务平台 >



咨询



报名



关注我们

**275** 电压表在测量时，量程要大于等于被测线路电压。



正确



错误

找到考证网

< 一站式报名学习考试服务平台 >



咨询



报名



关注我们

276 熔断器的特性，是通过熔体的电压值越高，熔断时间越短。

↓  
电流

正确

错误

找到考证网

< 一站式报名学习考试服务平台 >



咨询



报名



关注我们

277 日常电气设备的维护和保养应由设备管理人员负责。

正确

错误

↓  
维修工

找到考证网

< 一站式报名学习考试服务平台 >



咨询



报名



关注我们

**278** 在供配电系统和设备自动系统中，刀开关通常用于电源隔离。

正确

错误

找到考证网

< 一站式报名学习考试服务平台 >



咨询



报名



关注我们

279 在采用多级熔断器保护中，后级熔体的额定电流比前级大，以电源端为最前端。

正确

错误

找到考证网

< 一站式报名学习考试服务平台 >



咨询



报名



关注我们

280 自动开关属于手动电器。

正确

错误

自相矛盾

找到考证网

< 一站式报名学习考试服务平台 >



咨询



报名



关注我们

**281** 在有爆炸和火灾危险的场所，应尽量少用或不用携带式、移动式的电气设备。

正确

错误



找到考证网

< 一站式报名学习考试服务平台 >



咨询



报名



关注我们

**282** 当静电的放电火花能量足够大时，能引起火灾和爆炸事故，在生产过程中静电还会妨碍生产和降低产品质量等。



正确



错误

283 为安全起见，更换熔断器时，最好断开负载。

正确

错误

↓  
必须

找到考证网

< 一站式报名学习考试服务平台 >



咨询



报名



关注我们

**284** 脱离电源后，触电者神志清醒，应让触电者来回走动，加强血液循环。

正确

错误

↓ 静养

找到考证网

< 一站式报名学习考试服务平台 >



咨询



报名



关注我们

285 熔断器在所有电路中，都能起到过载保护。

正确

错误

↓  
短路

找到考证网

< 一站式报名学习考试服务平台 >



咨询



报名



关注我们

**286** 静电现象是很普遍的电现象，其危害不小，固体静电可达**200kV**以上，人体静电也可达**10KV**以上。



正确



错误

找到考证网

< 一站式报名学习考试服务平台 >



咨询



报名



关注我们

**287** 电子镇流器的功率因数高于电感式镇流器。



正确



错误

找到考证网

< 一站式报名学习考试服务平台 >



咨询



报名



关注我们

**288** RCD后的中性线可以接地。

✓ 正确

✗ 错误

RCD是剩余漏电保护器。  
不可以接地

找到考证网

< 一站式报名学习考试服务平台 >



咨询



报名



关注我们

289 在安全色标中用红色表示禁止、停止或消防。



正确



错误



找到考证网

< 一站式报名学习考试服务平台 >



咨询



报名



关注我们

290 万能转换开关的定位结构一般采用滚轮卡转轴  
辐射型结构。

正确

错误

↓  
棘轮

找到考证网

< 一站式报名学习考试服务平台 >



咨询



报名



关注我们

291 通电时间增加，人体电阻因出汗而增加，导致通过人体的电流减小。

正确

错误

增大

↓  
减小

找到考证网

< 一站式报名学习考试服务平台 >



咨询



报名



关注我们

292 万用表使用后，转换开关可置于任意位置。

正确

错误

交流电压最高档或off

### 找到考证网

< 一站式报名学习考试服务平台 >



咨询



报名



关注我们

**293** 低压断路器是一种重要的控制和保护电器，断路器都装有灭弧装置，因此可以安全地带负荷合、分闸。



正确

口诀



错误

找到考证网

< 一站式报名学习考试服务平台 >



咨询



报名



关注我们

294 高压水银灯的电压比较高，所以称为高压水银灯。

正确

错误

是水银蒸气放电

找到考证网

< 一站式报名学习考试服务平台 >



咨询



报名



关注我们

**295** 热继电器是利用双金属片受热弯曲而推动触点动作的一种保护电器，它主要用于线路的速断保护。

↓  
过载

正确

错误

找到考证网

< 一站式报名学习考试服务平台 >



咨询



报名



关注我们

296 接地电阻测试仪就是测量线路的绝缘电阻的仪器。

正确

错误

↓  
接地测接地

找到考证网

< 一站式报名学习考试服务平台 >



咨询



报名



关注我们

297 并联电路的总电压等于各支路电压之和。

正确

错误

并联分流,电压相等



### 找到考证网

< 一站式报名学习考试服务平台 >



咨询



报名



关注我们

298 热继电器的双金属片弯曲的速度与电流大小有关，电流越大，速度越快，这种特性称正比时限特性。

反比

正确

错误

找到考证网

< 一站式报名学习考试服务平台 >



咨询



报名



关注我们

299 接了漏电开关之后，设备外壳就不需要再接地或接零了。

正确

错误

需要接地

找到考证网

< 一站式报名学习考试服务平台 >



咨询



报名



关注我们

**300** 并联电容器有减少电压损失的作用。



正确



错误

找到考证网

< 一站式报名学习考试服务平台 >



咨询



报名



关注我们

**301** 组合开关可直接起动5kW以下的电动机。



正确



错误

找到考证网

< 一站式报名学习考试服务平台 >



咨询



报名



关注我们

**302** 除独立避雷针之外，在接地电阻满足要求的前提下，防雷接地装置可以和其他接地装置共用。



正确



错误

找到考证网

< 一站式报名学习考试服务平台 >



咨询



报名



关注我们

**303** 胶壳开关不适合用于直接控制**5.5kW**以上的交流电动机。



正确



错误

找到考证网

< 一站式报名学习考试服务平台 >



咨询



报名



关注我们

**304** 不同电压的插座应有明显区别。

正确

错误

### 找到考证网

< 一站式报名学习考试服务平台 >



咨询



报名



关注我们

**305** 当电气火灾发生时首先应迅速切断电源，在无法切断电源的情况下，应迅速选择干粉、二氧化碳等不导电的灭火器材进行灭火。



正确



错误



找到考证网

< 一站式报名学习考试服务平台 >



咨询



报名



关注我们

306 使用手持式电动工具应当检查电源开关是否失灵、是否破损、是否牢固、接线是否松动。



正确



错误

找到考证网

< 一站式报名学习考试服务平台 >



咨询



报名



关注我们

307 PN结正向导通时，其内外电场方向一致。

正确

错误

PN结记相反

相反

找到考证网

< 一站式报名学习考试服务平台 >



咨询



报名



关注我们

**308** 用钳表测量电流时，尽量将导线置于钳口铁芯中间，以减少测量误差。



正确



错误

找到考证网

< 一站式报名学习考试服务平台 >



咨询



报名



关注我们

**309** 在带电灭火时，如果用喷雾水枪应将水枪喷嘴接地，并穿上绝缘靴和戴上绝缘手套，才可进行灭火操作。



正确



错误

找到考证网

< 一站式报名学习考试服务平台 >



咨询



报名



关注我们

**310** 在选择导线时必须考虑线路投资，但导线截面积不能太小。



正确



错误

找到考证网

< 一站式报名学习考试服务平台 >



咨询



报名



关注我们

**311** 雷电后造成架空线路产生高电压冲击波，这种雷电称为直击雷。

正确

错误

雷电冲击波

找到考证网

< 一站式报名学习考试服务平台 >



咨询



报名



关注我们

**312** 中间继电器实际上是一种动作与释放值可调节的电压继电器。

正确

错误

不可以调节

找到考证网

< 一站式报名学习考试服务平台 >



咨询



报名



关注我们

**313** 在设备运行中，发生起火的原因是电流热量是间接原因，而火花或电弧则是直接原因。

正确

错误

三者都是直接原因



找到考证网

< 一站式报名学习考试服务平台 >



咨询



报名



关注我们

**314** 电工钳、电工刀、螺丝刀是常用电工基本工具。



正确



错误

找到考证网

< 一站式报名学习考试服务平台 >



咨询



报名



关注我们

**315** 绝缘体被击穿时的电压称为击穿电压。



正确



错误

找到考证网

< 一站式报名学习考试服务平台 >



咨询



报名



关注我们

**316** 用万用表R×1kΩ欧姆档测量二极管时，红表笔接一只脚，黑表笔接另一只脚测得的电阻值约为几百欧姆，反向测量时电阻值很大，则该二极管是好的。

- 正确
- 错误

找到考证网

< 一站式报名学习考试服务平台 >



咨询



报名



关注我们

**317** 为了有明显区别，并列安装的同型号开关应不同高度，错落有致。

正确

错误

同等高度,平行排列.

### 找到考证网

< 一站式报名学习考试服务平台 >



咨询



报名



关注我们

318 雷击产生的高电压可和耀眼的白光可对电气装置和建筑物及其他设施造成毁坏，电力设施或电力线路遭破坏可能导致大规模停电。 </p>

正确

错误

白光不会对建筑物造成

毁坏